

Οι πεδιάδες της Ελλάδας

Δραστηριότητες

1. Βρες τις λέξεις που λείπουν από το παρακάτω κείμενο:

«Η _____ πεδιάδα είναι ανοιχτή προς τη θάλασσα, ενώ αντίθετα η _____ πεδιάδα περιβάλλεται από βουνά. Η πεδιάδα της Θεσσαλονίκης είναι μια _____ πεδιάδα και οι αγρότες μας εκεί έχουν αναπτύξει αγροτικές _____. Η κοιλάδα είναι στενό κομμάτι _____ εδάφους ανάμεσα σε δυο βουνά, που συνήθως το διασχίζει ένα _____. Η κοιλάδα των _____ αρδεύεται από τον Πηνειό ποταμό. Γνωστές κοιλάδες είναι του _____ και του _____ στην Πελοπόννησο, των _____ στη Θεσσαλία και του _____ στην Ήπειρο.»

2. Συμπλήρωσε την ακροστικίδα της λέξης «ΠΕΔΙΑΔΑ»:

Π _ _ _ _ _	Δεν είναι το έδαφος της χώρας μας
Ε _ _ _ _ _	Η πεδιάδα του βρίσκεται στη Θράκη
Δ _ _ _ _ _	Η πεδιάδα της βρίσκεται στη Μακεδονία
Ι _ _ _ _ _	Μεγάλη ορεινή πόλη της Ηπείρου
Α _ _ _ _ _	Ποταμός που διασχίζει κοιλάδα της Πελοποννήσου
Δ _ _ _ _ _	Η πεδιάδα της Ηλείας βρίσκεται στα ... της Πελοποννήσου (σημείο του ορίζοντα)
Α _ _ _ _ _	Παράλια χαρακτηρίζεται η πεδιάδα που είναι ... στη θάλασσα

3. Σχηματίστε μικρές ομάδες, συζητήστε τα πλεονεκτήματα των πεδινών περιοχών και κατόπιν γράψτε ένα μικρό κείμενο, στο οποίο θα αναφέρετε μερικούς από τους λόγους που οι πεδινές περιοχές αναπτύσσονται ευκολότερα σε σύγκριση με τις ορεινές περιοχές.

.....

.....

.....

.....

.....

.....

.....

.....

.....

.....

Η ζωή στα βουνά και στις πεδιάδες

Δραστηριότητες

1. Ποιες από τις παρακάτω προτάσεις είναι σωστές και ποιες λανθασμένες;

Γράψε «Σ» για τη σωστή και «Λ» για τη λανθασμένη στο

- α) Οι κάτοικοι των ορεινών περιοχών ασχολούνται κυρίως με τη γεωργία
- β) Το Καρπενήσι είναι μια πεδινή περιοχή
- γ) Ορεισίβιοι λέγονται οι κάτοικοι των ορεινών περιοχών
- δ) Το συνεταιρισμό αποτελεί ομάδα ανθρώπων που έχουν κοινούς επαγγελματικούς στόχους
- ε) Στις ορεινές περιοχές αναπτύσσεται εύκολα το συγκοινωνιακό δίκτυο

2. Βάλε την κάθε πόλη στον ... κύκλο της

Γιαννιτσά, Ιωάννινα, Τρίπολη, Λάρισα, Φλώρινα, Άργος, Πύργος, Καστοριά, Μέτσοβο, Σπάρτη, Λαμία, Αλεξανδρούπολη, Άμφισσα, Πρέβεζα, Καρπενήσι, Γρεβενά

Πεδινές πόλεις



Ορεινές πόλεις



3. Βρες τις λέξεις που λείπουν από το παρακάτω κείμενο:

Οι κάτοικοι των _____ περιοχών αντιμετωπίζουν μεγάλα προβλήματα, όταν επικρατούν κακές καιρικές συνθήκες. Το χιόνι τούς απομονώνει, διακόπτεται η _____ και η μετάβασή τους από το ένα μέρος στο άλλο γίνεται αδύνατη. Αντίθετα η ζωή στις _____ περιοχές είναι ευκολότερη. Οι αγρότες σχηματίζουν αγροτικούς _____, για να βελτιώσουν τις καλλιέργειες και τον τρόπο της ζωής τους.

4ο φύλλο αξιολόγησης

1. Σημειώστε πάνω στο χάρτη τα ψηλότερα βουνά και τις κυριότερες πεδιάδες της χώρας μας.

2. Βρείτε στο χάρτη πέντε πεδινές και πέντε ορεινές πόλεις. Γράψτε ποιες δυσκολίες συναντούν το χειμώνα οι κάτοικοι των ορεινών πόλεων.

.....

.....

.....

.....

.....



4ο Φύλλο αξιολόγησης: Γεωμορφολογικός χάρτης της Ελλάδας



Καλή Επιτυχία!

Η έννοια του κλίματος – Διαφορές καιρού και κλίματος

Δραστηριότητες

1. Ποια από τις παρακάτω προτάσεις αναφέρεται στον καιρό και ποια στο κλίμα ενός τόπου; Γράψε τις απαντήσεις σου στα κουτάκια.

- α) Ο χειμώνας στα παράλια είναι ηπιότερος από το χειμώνα στα ηπειρωτικά.
- β) Ο περυσινός χειμώνας χαρακτηρίστηκε από πολλές βροχοπτώσεις.
- γ) Η πτώση της θερμοκρασίας θα είναι αισθητή το επόμενο εικοσιτετράωρο.
- δ) Το καλοκαίρι της Ελλάδας είναι θερμότερο από το καλοκαίρι της Γερμανίας.
- ε) Σπάνια χιονίζει στις νησιωτικές περιοχές της Ελλάδας.
- στ) Έξω χιονίζει. Ντυθείτε καλά και πηγαίνετε να παίξετε. Προσέχετε μη γλιστρήσετε.
- ζ) Το καλοκαίρι στην Ελλάδα είναι ζεστό, σχεδόν ποτέ δεν βρέχει, ενώ ντόπιοι και τουρίστες κατακλύζουν τις παραλίες.
- η) Άνεμοι θα πνέουν το επόμενο εικοσιτετράωρο, οι οποίοι θα ενισχυθούν το Σαββατοκύριακο.
- θ) Κάθε χρόνο τέτοια εποχή έρχονται τα χελιδόνια.
- ι) Το Λιμεναρχείο έχει εκδώσει απαγορευτικό δελτίο για τον απόπλου όλων των πλοίων προς τα Δωδεκάνησα και την Κρήτη.

α)	β)	γ)	δ)	ε)
στ)	ζ)	η)	θ)	ι)

2. Γίνε ένας μετεωρολόγος! Γράψε στις γραμμές που ακολουθούν το σημερινό δελτίο του καιρού για τις περιοχές της Αθήνας, της Καβάλας και των Ιωαννίνων, αφού τις εντοπίσεις στον κλιματικό χάρτη.

.....

.....

.....

.....

.....

.....

.....

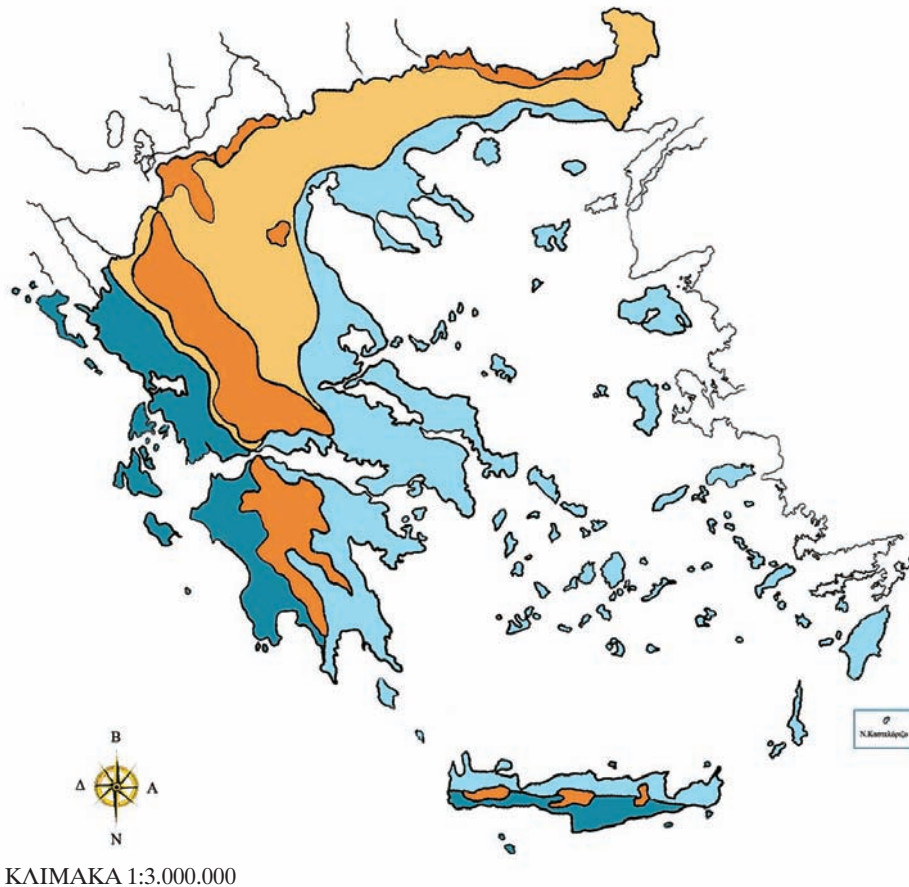
.....

.....

.....

.....

.....



ΚΛΙΜΑΤΙΚΕΣ ΠΕΡΙΟΧΕΣ ΤΗΣ ΕΛΛΑΔΑΣ

- | | |
|--|--|
|  Κλίμα ορεινό με ψυχρούς χειμώνες, δροσερά καλοκαίρια και βροχές όλες τις εποχές. |  Κλίμα υγρό με πολλές βροχές, ήπιους χειμώνες και δροσερά καλοκαίρια. |
|  Κλίμα με χειμώνες πιο ψυχρούς απ' ό,τι στις ακτές και ξηρά καλοκαίρια. |  Κλίμα με μέτριες βροχές, ήπιους χειμώνες και ξηρά καλοκαίρια. |

Εικόνα 16.1: Χάρτης με τις κλιματικές περιοχές της Ελλάδας

3. Συμπλήρωσε στο παρακάτω κείμενο τις λέξεις που λείπουν:

Οι επιστήμονες που ασχολούνται με την _____ του καιρού, δηλαδή οι _____, καθημερινά συλλέγουν πολλά στοιχεία, για να μπορούν να μας πληροφορούν με βεβαιότητα για τον _____ που θα επικρατήσει στις διάφορες περιοχές τις επόμενες ημέρες.

Τα δελτία καιρού μας δίνουν πληροφορίες για τη _____, τις _____, τους _____ ή την _____, που παρουσιάζονται στην περιοχή αυτή κατά τα επόμενα εικοσιτετράωρα.

Με άλλα λόγια μάς δίνουν πληροφορίες για τις _____ της περιοχής. Όταν σε μια περιοχή, για κάθε εποχή του χρόνου, επικρατούν σχεδόν οι ίδιες καιρικές συνθήκες, οι οποίες επαναλαμβάνονται για πολλά χρόνια, τότε μιλάμε για το _____ της περιοχής αυτής.

Το κλίμα της Ελλάδας

Δραστηριότητες

1. Ποιες από τις παρακάτω προτάσεις είναι σωστές και ποιες λανθασμένες;

Γράψε «Σ» για τη σωστή και «Λ» για τη λανθασμένη στο

- α) Η Ελλάδα έχει κλίμα ηπειρωτικό.
- β) Σε κάθε περιοχή της Ελλάδας δεν επικρατούν οι ίδιες κλιματικές συνθήκες.
- γ) Το κλίμα της Ελλάδας είναι εύκρατο μεσογειακό.
- δ) Οι κλιματικές συνθήκες μιας περιοχής δεν επηρεάζονται από το υψόμετρό της.
- ε) Η Δυτική Ελλάδα δέχεται περισσότερες βροχοπτώσεις ετησίως.

2. Συμπλήρωσε το κείμενο με τις λέξεις που λείπουν:

Η Ελλάδα έχει κλίμα _____. Σε κάθε περιοχή, όμως, επικρατούν διαφορετικές _____. Αυτό συμβαίνει, γιατί η χώρα μας έχει πλούσιο _____. Οι παράγοντες που επηρεάζουν το κλίμα μιας περιοχής είναι το _____, η _____ από τη _____ και άλλες _____ συνθήκες. Η οροσειρά της _____ χωρίζει τον _____ κορμό της χώρας σε _____ και _____. Στη Δυτική Ελλάδα οι _____ είναι περισσότερες. Οι παραλιακές περιοχές έχουν _____ χειμώνες από ό,τι οι ηπειρωτικές.

3.

Προσπάθησε να εξηγήσεις το ρόλο της οροσειράς της Πίνδου στη διαμόρφωση του κλίματος στον ηπειρωτικό κορμό της Ελλάδας.

.....

.....

.....

.....

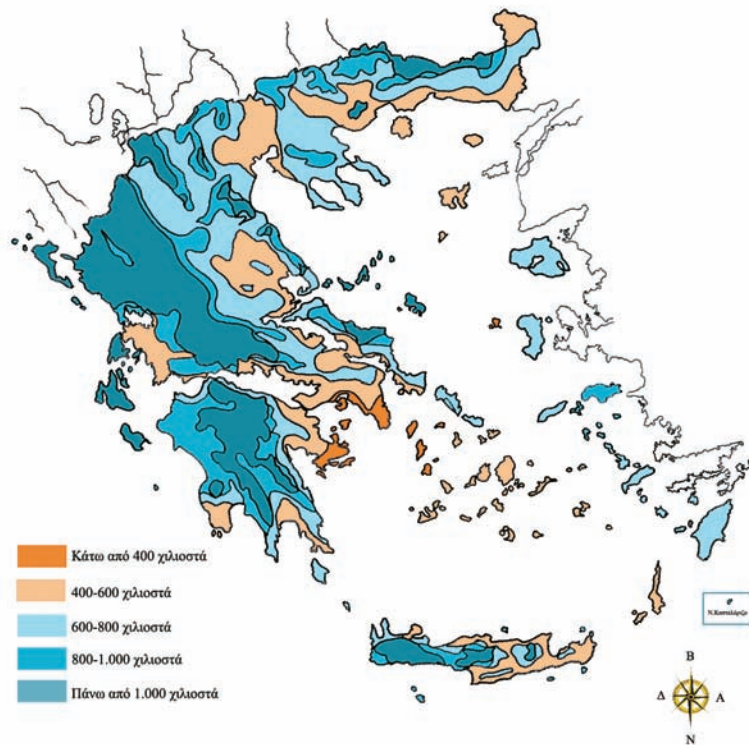
.....

.....

.....

4.

Βρες στο χάρτη κατανομής των βροχών της χώρας μας τις πόλεις Αθήνα, Πύργο και Ιωάννινα. Γράψε ένα κύριο χαρακτηριστικό του κλίματος των πόλεων αυτών.



Εικόνα 17.1: Χάρτης κατανομής Βροχών

.....

.....

.....


.....

.....

Καιρός, κλίμα και ανθρώπινες δραστηριότητες

Δραστηριότητες

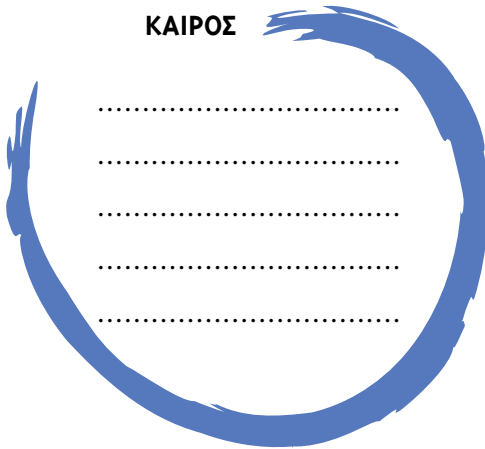
1. Από εφημερίδα ή από άλλο έντυπο κόψε το δελτίο του αυριανού καιρού, κόλλησέ το στο παρακάτω παραλληλόγραμμο και γράψε μερικές από τις δουλειές που μπορείς ή που δεν μπορείς να κάνεις λόγω του καιρού.



.....
.....
.....
.....
.....

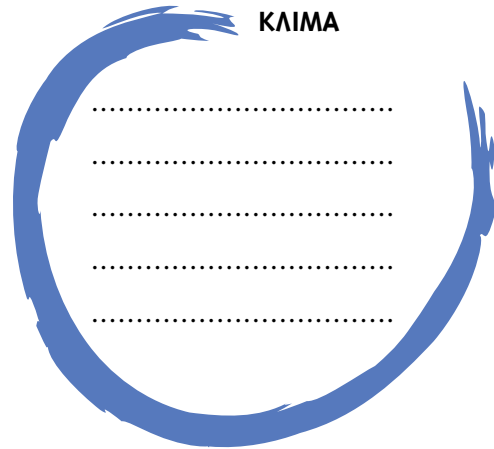
2. Τοποθέτησε τις παρακάτω δραστηριότητες και ενέργειες στον κατάλληλο κύκλο:

ΚΑΙΡΟΣ



.....
.....
.....
.....
.....


ΚΛΙΜΑ



.....
.....
.....
.....
.....

Καλλιεργώ οπωροκηπευτικά, παίρνω την ομπρέλα μου, τοποθετώ πλάγια κεραμοσκεπή στο σπίτι μου, αύριο θα πάμε εκδρομή, φυσάει πολύ σήμερα.

3. Στο πλαίσιο που ακολουθεί φτιάξε ένα κολλάζ εικόνων από διάφορα έντυπα, οι οποίες θα δείχνουν ασχολίες κατοίκων από διάφορες περιοχές της πατρίδας μας.



Τα ποτάμια της Ελλάδας

Δραστηριότητες

1. Ποιες από τις παρακάτω προτάσεις είναι σωστές και ποιες λανθασμένες;

Γράψε «Σ» για τη σωστή και «Λ» για τη λανθασμένη στο

- α) Οι εκβολές είναι το τμήμα του ποταμού που βρίσκεται στα βουνά.
- β) Η κυρίως ροή έχει το μεγαλύτερο όγκο νερού.
- γ) Ο Αλιάκμονας είναι ο μεγαλύτερος σε μήκος ποταμός της Ελλάδας.
- δ) Το Δέλτα ενός ποταμού σχηματίζεται στις εκβολές του.
- ε) Ο ποταμός Νέστος εκβάλλει στο Ιόνιο πέλαγος.

2. Να τοποθετήσεις τους παρακάτω ποταμούς στα γεωγραφικά διαμερίσματα που ανήκουν. (Μπορείς να βοηθηθείς από το χάρτη).

Αλιάκμονας, Αλφειός, Αξιός, Αχελώος, Αώος, Έβρος, Ευρώτας, Λουδίας, Νέστος, Πηνειός, Στρυμόνας, Λάδωνας.

Ήπειρος	Θεσσαλία	Θράκη
Μακεδονία	Πελοπόννησος	Στερεά Ελλάδα

3. Απάντησε στις παρακάτω ερωτήσεις:

- α) Σε ποια οροσειρά βρίσκονται οι πηγές των μεγαλύτερων ποταμών;
.....
.....
- β) Τι είναι το Δέλτα των ποταμών;
.....
.....
- γ) Γιατί η κυρίως ροή ενός ποταμού έχει τη μεγαλύτερη ποσότητα νερού;
.....
.....