

Μια μικρή ιστορία ...

Κατά τους θερινούς Ολυμπιακούς αγώνες του 2000 που διεξήχθησαν στο Σίνδεϋ της Αυστραλίας, ο Πύρρος Δήμας αναδείχτηκε Ολυμπιονίκης στην κίνηση του αρασέ υπερνικώντας το βάρος της μπάρας, που είχε μάζα 250 kg, και ανυψώνοντάς την σε ύψος 2,3 m.



Πόσο ήταν το βάρος της μπάρας; Πόση δύναμη άσκησε σ' αυτή ο αθλητής, ώστε να καταφέρει να την ανυψώσει; Μελετώντας αυτό το κεφάλαιο, θα μάθεις να διακρίνεις τη μάζα από το βάρος της μπάρας, να σχεδιάζεις και να υπολογίζεις τις δυνάμεις που ασκούνται από ένα σώμα σε ένα άλλο. Θα συσχετίσεις τις δυνάμεις με τις κινήσεις που προκαλούν στα σώματα πάνω στα οποία ασκούνται. Επίσης, θα μάθεις πώς οι πύραυλοι υπερνικούν το βάρος τους και απομακρύνονται από τη γη ταξιδεύοντας σε διάφορες γωνιές του ηλιακού μας συστήματος.

ΔΥΝΑΜΕΙΣ

ΚΙΝΗΣΗ ΚΑΙ ΑΛΛΗΛΕΠΙΔΡΑΣΗ: ΔΥΟ ΓΕΝΙΚΑ ΧΑΡΑΚΤΗΡΙΣΤΙΚΑ ΤΗΣ ΥΛΗΣ

Στο προηγούμενο κεφάλαιο μελετήσαμε τις κινήσεις των σωμάτων. Αγνοήσαμε όμως την αιτία που προκαλεί τη μεταβολή στην κινητική κατάσταση των σωμάτων.

Το επόμενο βήμα είναι να αναζητήσουμε την αιτία που καθορίζει εάν ένα σώμα ηρεμεί ή εκτελεί ένα ορισμένο είδος κίνησης. Αυτή η αναζήτηση οδηγεί στην εισαγωγή της έννοιας της **δύναμης** και γενικότερα της έννοιας της **αλληλεπίδρασης**. Δυο σώματα αλληλεπιδρούν, όταν ασκούν δυνάμεις το ένα στο άλλο. Όπως η κίνηση έτσι και η αλληλεπίδραση αποτελεί ένα γενικό χαρακτηριστικό της ύλης.

3.1 Η έννοια της δύναμης

Για να καταλάβουμε την αιτία της κίνησης, πρέπει να γνωρίζουμε τον τρόπο με τον οποίο ένα σώμα επηρεάζει την κίνηση ενός άλλου. Με άλλα λόγια να μελετήσουμε τη δύναμη που το ένα σώμα ασκεί στο άλλο. *Όμως τι είναι δύναμη;* Αυτό το οποίο αντιλαμβανόμαστε είναι τα αποτελέσματα των δυνάμεων και όχι τις ίδιες τις δυνάμεις. Η απλούστερη αντίληψη που έχουμε για τη δύναμη είναι ότι σ' ένα σώμα ασκούμε δύναμη όταν το σπρώχνουμε ή το τραβάμε.

Δύναμη και κίνηση

Το παιδί που φαίνεται στην εικόνα 3.1 έχει δέσει με σκοινί μια ακίνητη βάρκα και την τραβάει προς την ξηρά. Η βάρκα αρχίζει να κινείται, η ταχύτητα της βάρκας μεταβάλλεται. Τότε λέμε ότι **το σκοινί ασκεί δύναμη στη βάρκα**.


Αφήνουμε μια πέτρα από κάποιο ύψος να πέσει. Μόλις η πέτρα φθάσει στο έδαφος σταματά, η ταχύτητά της μεταβάλλεται. Τότε λέμε ότι **το έδαφος ασκεί δύναμη στην πέτρα** (εικόνα 3.2).

Ο τερματοφύλακας, για να αλλάξει την πορεία της μπάλας που κατευθύνεται προς το τέρμα του, θα πρέπει να τη χτυπήσει δυνατά με το χέρι του. Λέμε ότι **το χέρι ασκεί δύναμη στην μπάλα**.



Εικόνα 3.1.

Η βάρκα αρχίζει να κινείται προς την ακτή. Το σκοινί ασκεί δύναμη στη βάρκα.



Εικόνα 3.2.

Η πέτρα σταματά. Το έδαφος ασκεί δύναμη στην πέτρα.



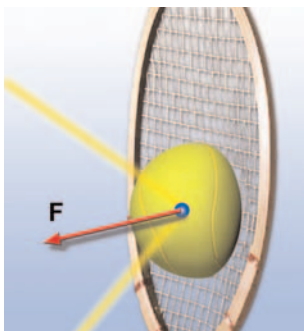
Εικόνα 3.3.

Η ρακέτα αλλάζει την πορεία της μπάλας. Η ρακέτα ασκεί δύναμη στην μπάλα.



Εικόνα 3.4.

Το χέρι μας προκαλεί αύξηση του μήκους του ελατηρίου. Το χέρι ασκεί δύναμη στο ελατήριο.



Εικόνα 3.5.

Καθώς το μπαλάκι βρίσκεται σε επαφή με τη ρακέτα: α) παραμορφώνεται και β) μεταβάλλεται η ταχύτητά του. Η ρακέτα ασκεί δύναμη στο μπαλάκι.

Για να αλλάξουμε την πορεία στο μπαλάκι του τένις, πρέπει να το χτυπήσουμε με τη ρακέτα. Λέμε ότι η **ρακέτα ασκεί δύναμη στο μπαλάκι** του τένις (εικόνα 3.3). Σε όλα τα παραπάνω παραδείγματα έχουμε μεταβολή στην ταχύτητα των σωμάτων, επομένως:

Οι δυνάμεις προκαλούν μεταβολή στην ταχύτητα των σωμάτων στα οποία ασκούνται.

Δύναμη και παραμόρφωση

Οι δυνάμεις προκαλούν και άλλου είδους μεταβολές εκτός από μεταβολή της ταχύτητας των σωμάτων;

Όταν φυσάει ο άνεμος, τα πανιά του ιστιοφόρου «φουσκώνουν»-**παραμορφώνονται**. Λέμε ότι ο **άνεμος ασκεί δύναμη στα πανιά**.

Κρατάμε στα χέρια μας ένα κομμάτι πλαστελίνης και το πιέζουμε. Η **πλαστελίνη παραμορφώνεται**. Λέμε ότι **το χέρι ασκεί δύναμη στην πλαστελίνη**. Τραβάμε ένα ελατήριο και το επιμηκύνουμε. Το ελατήριο **παραμορφώνεται**. Λέμε ότι **το χέρι μας ασκεί δύναμη στο ελατήριο** (εικόνα 3.4). Επομένως:

Οι δυνάμεις προκαλούν παραμόρφωση των σωμάτων στα οποία ασκούνται.

Πολλές φορές μια δύναμη προκαλεί και τα δύο αποτελέσματα ταυτόχρονα. Για παράδειγμα, όταν χτυπάμε με τη ρακέτα ένα μπαλάκι του τένις, το μπαλάκι παραμορφώνεται και η ταχύτητά του μεταβάλλεται (εικόνα 3.5).

Δυνάμεις και αλληλεπιδράσεις

Παρατήρησε ότι σε όλα τα προηγούμενα παραδείγματα η δύναμη που ασκείται σε ένα σώμα προέρχεται πάντοτε από κάποιο άλλο σώμα.

Στη φύση φαίνεται να υπάρχουν πολλές και διαφορετικές δυνάμεις. Έχουν άραγε όλες οι δυνάμεις κάποιο κοινό χαρακτηριστικό;

Η απάντηση σ' αυτό το ερώτημα δόθηκε πριν από 300 χρόνια περίπου από τον Νεύτωνα, ο οποίος υποστήριξε ότι δεν υπάρχουν κάποια σώματα που μόνο ασκούν δυνάμεις και κάποια άλλα που μόνο δέχονται την επίδραση δυνάμεων. Οι δυνάμεις εμφανίζονται πάντοτε ανά δύο μεταξύ δύο σωμάτων.

Σχηματικά μπορούμε να δείξουμε:

το **σώμα Α** ασκεί δύναμη στο **σώμα Β**

Αλλά ισχύει και το αντίστροφο.

το **σώμα Β** ασκεί δύναμη στο **σώμα Α**

Για παράδειγμα, το οδόστρωμα ασκεί δύναμη στα ελαστικά των αυτοκινήτων και τα ελαστικά στο οδόστρωμα, ο ήλιος στη γη και η γη στον ήλιο.

Λέμε ότι τα σώματα αλληλεπιδρούν. Έτσι, δύο παιδιά που σπρώχνονται, δύο αυτοκίνητα που συγκρούονται, ο ήλιος και η γη που έλκονται, αλληλεπιδρούν (εικόνες 3.6 και 3.7).

Κατηγορίες δυνάμεων

Πότε ένα σώμα ασκεί δύναμη σ' ένα άλλο; Πώς μπορούμε να γνωρίζουμε τις δυνάμεις που ασκούνται σ' ένα σώμα;

Για να απαντήσουμε στα παραπάνω ερωτήματα, κατατάσσουμε τις δυνάμεις σε δυο κατηγορίες. Δυνάμεις που ασκούνται **κατά την επαφή** δύο σωμάτων (δυνάμεις επαφής) και δυνάμεις που ασκούνται **από απόσταση**.

Δυνάμεις επαφής χαρακτηρίζουμε τις δυνάμεις οι οποίες ασκούνται όταν ένα σώμα βρίσκεται σε επαφή με κάποιο άλλο (εικόνα 3.8). Παραδείγματα δυνάμεων επαφής είναι:

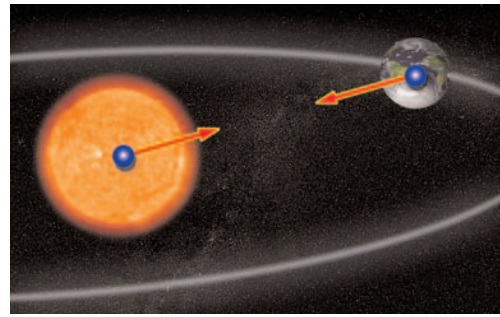
- Οι δυνάμεις που ασκούν τα τεντωμένα σχοινιά ή τα ελατήρια σε σώματα.
- Οι δυνάμεις που ασκούνται μεταξύ σωμάτων κατά τις συγκρούσεις τους.
- Η δύναμη της τριβής ανάμεσα σε δυο επιφάνειες.
- Η δύναμη που ασκούν τα υγρά στα τοιχώματα του δοχείου μέσα στο οποίο περιέχονται ή στα σώματα που είναι μέσα σ' αυτά κτλ.

Δυνάμεις που ασκούνται από απόσταση είναι:

- Η βαρυτική δύναμη, όπως για παράδειγμα η δύναμη που ασκεί η γη σε σώματα που δε βρίσκονται στην επιφάνειά της, όπως αλεξιπτωτιστές, αεροπλάνα ή δορυφόροι. Η δύναμη που ασκεί ο ήλιος στη γη (εικόνα 3.6).
- Οι ηλεκτρικές δυνάμεις και
- οι μαγνητικές δυνάμεις.

Εικόνα 3.8. ▶

Ο βατήρας ασκεί δύναμη στον αθλητή από επαφή.



Εικόνα 3.6.

Ο ήλιος και η γη αλληλεπιδρούν από απόσταση. Ο ήλιος ασκεί δύναμη στη γη αλλά και η γη ασκεί δύναμη στον ήλιο.



Εικόνα 3.7.

Το ένα αυτοκίνητο ασκεί δύναμη στο άλλο. Τα δύο αυτοκίνητα αλληλεπιδρούν.

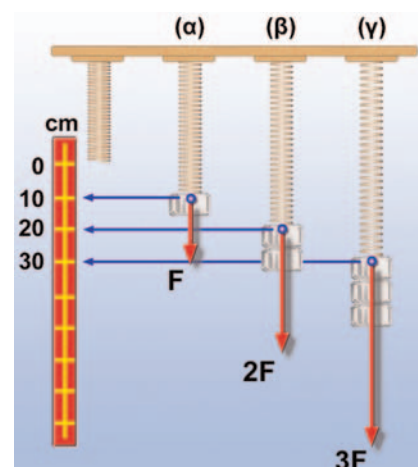


Μέτρηση της δύναμης

Γνωρίζουμε ότι οι φυσικοί, για να περιγράψουν ένα φαινόμενο, χρησιμοποιούν εκείνα τα μεγέθη τα οποία μπορούν να μετρήσουν.

Πώς μπορούμε να μετρήσουμε μια δύναμη; Για να συγκρίνουμε και να μετρήσουμε δυνάμεις, θα χρησιμοποιήσουμε τα αποτελέσματα που αυτές προκαλούν στα σώματα στα οποία ασκούνται. Για παράδειγμα, μπορούμε να χρησιμοποιήσουμε την παραμόρφωση και συγκεκριμένα την επιμήκυνση την οποία μια δύναμη προκαλεί σ' ένα ελατήριο.

Αρχικά, θα πρέπει να βρούμε τη σχέση της επιμήκυνσης του ελατηρίου με τη δύναμη που την προκαλεί. Παρατήρησε την εικόνα 3.9. Στην περίπτωση (α), η δύναμη F προκαλεί επιμήκυνση 10 cm. Στη (β), διπλάσια δύναμη ($2 \cdot F$) προκαλεί διπλάσια επιμήκυνση (20 cm). Στη (γ), τριπλάσια δύναμη ($3 \cdot F$) προκαλεί τριπλάσια επιμήκυνση (30 cm). Γενικεύοντας, καταλήγουμε στο συ-



Εικόνα 3.9.

Ο νόμος του Ηοοκ.

Εφαρμόζοντας διπλάσια και τριπλάσια δύναμη στο ελατήριο, η επιμήκυνσή του διπλασιάζεται και τριπλασιάζεται, αντίστοιχα. Η επιμήκυνση του ελατηρίου είναι ανάλογη της δύναμης που την προκαλεί.



Εικόνα 3.10.
Δυναμόμετρο.

Η ένδειξη του ισούται με το μέτρο της δύναμης που ασκείται στο σώμα μέσω του δυναμομέτρου.

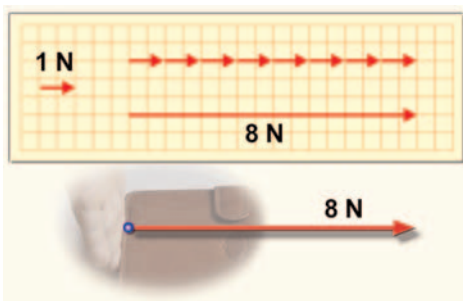
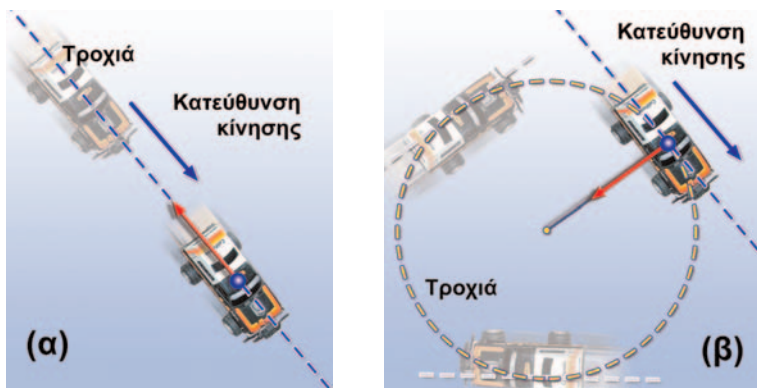


Εικόνα 3.11.

Η κασετίνα είναι αρχικά ακίνητη. Η κατεύθυνση που θα κινηθεί εξαρτάται από την κατεύθυνση προς την οποία ασκούμε τη δύναμη.

Εικόνα 3.12. ▶

(α) Η δύναμη είναι αντίθετη με την κατεύθυνση της κίνησης. Το σώμα σταματά. (β) Η δύναμη είναι κάθετη στην κατεύθυνση της κίνησης. Το σώμα κινείται κυκλικά



Εικόνα 3.13.

Η δύναμη που ασκούμε στην κασετίνα παριστάνεται με ένα διάνυσμα.

μπέρασμα που είχε ήδη διατυπώσει τον 17ο αιώνα ο Άγγλος φυσικός Ρόμπερτ Χουκ (Hook):

Η επιμήκυνση ενός ελατηρίου είναι ανάλογη με τη δύναμη που ασκείται σ' αυτό.

Την παραπάνω ιδιότητα των ελατηρίων την εκμεταλλευόμαστε στην κατασκευή οργάνων μέτρησης δυνάμεων: **των δυναμόμετρων** (εικόνα 3.10).

Η μονάδα δύναμης στο Διεθνές Σύστημα Μονάδων (S.I.) ονομάζεται 1 N (Newton-Νιούτον).

Ο διανυσματικός χαρακτήρας της δύναμης

Στην εικόνα 3.11 εικονίζεται ένα χέρι που ασκεί δύναμη στην αρχικά ακίνητη κασετίνα σπρώχνοντάς την προς τα δεξιά. Η κασετίνα κινείται επίσης προς τα δεξιά. Αν την τραβήξουμε προς τα αριστερά, θα κινηθεί προς τα αριστερά.

Στην εικόνα 3.12 παριστάνεται ένα αυτοκινητάκι που κινείται με μπαταρίες (α) στο πίσω μέρος του παιχνιδιού δένεται νήμα, το άλλο άκρο το οποίου στερεώνεται στο δάπεδο. Θέτουμε το αυτοκινητάκι σε κίνηση, το νήμα τεντώνεται, ασκεί δύναμη στο αυτοκινητάκι το οποίο τελικά σταματά (εικόνα 3.12α). (β) Δένουμε το νήμα στο πλάι του παιχνιδιού, το τεντώνουμε και θέτουμε σε κίνηση το αυτοκινητάκι. Το αυτοκινητάκι εκτελεί κυκλική κίνηση (εικόνα 3.12β).

Σε όλες τις παραπάνω περιπτώσεις παρατηρούμε ότι το αποτέλεσμα της δύναμης (η μεταβολή της ταχύτητας) εξαρτάται από την κατεύθυνση στην οποία ασκείται η δύναμη. Η δύναμη εκτός από μέτρο έχει και κατεύθυνση. Επομένως, είναι διανυσματικό μέγεθος και θα την παριστάνουμε με ένα βέλος που έχει την κατεύθυνση της δύναμης. Το σημείο εφαρμογής του διανύσματος που παριστάνει τη δύναμη, είναι το σημείο του σώματος, στο οποίο ασκείται. Αν ένα σώμα θεωρηθεί υλικό σημείο, τότε το σημείο εφαρμογής της δύναμης ταυτίζεται με αυτό.

Το μέτρο της δύναμης ισούται με το μήκος του διανύσματος, αν αυτό σχεδιαστεί με κατάλληλη κλίμακα. Εάν διαλέξουμε 1 cm να αντιστοιχεί σε 1 N, τότε η δύναμη 8 N παριστάνεται από διάνυσμα μήκους 8 cm (εικόνα 3.13).

3.2 Δύο σημαντικές δυνάμεις στον κόσμο

Βάρος και βαρυτική δύναμη

Επιστρέφοντας στο σπίτι από το σχολείο βλέπεις μια ακίνητη μπάλα στο δρόμο και της δίνεις μια δυνατή κλοτσιά (εικόνα 3.14α). Η μπάλα κινείται, η ταχύτητά της μεταβάλλεται, συνεπώς το πόδι σου ασκεί δύναμη στην μπάλα και προκαλεί την κίνησή της.

Σηκώνεις ένα κουτί σε κάποιο ύψος από την επιφάνεια του εδάφους και το αφήνεις ελεύθερο (εικόνα 3.14β). Το κουτί δεν παραμένει ακίνητο, αλλά κινείται κατακόρυφα προς τα κάτω. Η ταχύτητα του κουτιού μεταβάλλεται, άρα στο κουτί ασκείται δύναμη. Ποια δύναμη προκαλεί την κίνηση του κουτιού;

Την απάντηση στο παραπάνω ερώτημα έδωσε ο Νεύτωνας. Σύμφωνα με την παράδοση, ενώ καθόταν κάτω από μια μηλιά, είδε ένα μήλο να πέφτει στο έδαφος. Υπέθεσε τότε ότι η δύναμη που προκάλεσε την κίνηση του μήλου ασκείται από τη γη σ' αυτό. Αυτή τη δύναμη ο Νεύτωνας την ονόμασε (γήινο) **βάρος** του σώματος. Το βάρος είναι δύναμη και επομένως η μονάδα μέτρησής του στο SI είναι η μονάδα της δύναμης, δηλαδή το N.

Η γη ασκεί **βαρυτική δύναμη** σ' οποιοδήποτε σώμα, ανεξάρτητα αν αυτό βρίσκεται στο έδαφος, πέφτει ή ανυψώνεται. Η γη πάντοτε έλκει τα σώματα προς το κέντρο της. **Οι βαρυτικές δυνάμεις είναι πάντοτε ελκτικές.**

Αλλά μέχρι πού επεκτείνεται η δράση της βαρυτικής δύναμης της γης;

Ο Νεύτωνας δέχτηκε ότι η βαρυτική δύναμη που προκαλεί την πτώση ενός μήλου, ασκείται και στη σελήνη και προκαλεί τη (σχεδόν) κυκλική κίνησή της γύρω από τη γη (εικόνα 3.15). Έτσι, κατέληξε στο συμπέρασμα ότι οι βαρυτικές δυνάμεις ασκούνται μεταξύ όλων των σωμάτων στο σύμπαν.


Σε κάθε τόπο το βάρος έχει τη διεύθυνση της ακτίνας της γης και φορά προς το κέντρο της. Η διεύθυνση της ακτίνας της γης στο συγκεκριμένο τόπο ονομάζεται **κατακόρυφος** του τόπου (εικόνα 3.16). Αισθητοποιείται με το νήμα της στάθμης. Θεωρώντας κάθε μικρή περιοχή της επιφάνειας της γης επίπεδη, το διάνυσμα του βάρους έχει διεύθυνση κάθετη σε αυτή και φορά προς τα κάτω.

Το βάρος ενός σώματος ελαττώνεται όσο αυξάνεται το ύψος που βρίσκεται το σώμα από την επιφάνεια του εδάφους. Ένα παιδί που έχει βάρος 300 N στην επιφάνεια της θάλασσας, θα έχει βάρος περίπου 299 N στην κορυφή του Έβερεστ (εικόνα 3.17). Ένας αστροναύτης που βρίσκεται σε ύψος ίσο με την ακτίνα της γης, έχει βάρος ίσο με το $\frac{1}{4}$ του βάρους του στην επιφάνεια της γης.



Εικόνα 3.14.

(α) Η ακίνητη μπάλα αρχίζει να κινείται. (β) Το ακίνητο κουτί αρχίζει να κινείται προς την επιφάνεια της γης.



Εικόνα 3.15.

Το μήλο κινείται προς την επιφάνεια της γης. Η σελήνη κινείται γύρω από τη γη. Στο μήλο και στη σελήνη ασκούνται βαρυτικές δυνάμεις από τη γη.



Εικόνα 3.16.

Η κατακόρυφη κάθε τόπου έχει τη διεύθυνση της ακτίνας της γης και διέρχεται από το κέντρο της.

Εικόνα 3.17. ▶

Η βαρυτική δύναμη που ασκεί η γη μειώνεται καθώς απομακρυνόμαστε από το κέντρο της. Στην κορυφή ενός πολύ ψηλού βουνού είναι μικρότερη από ότι στην επιφάνεια της θάλασσας στο ίδιο γεωγραφικό πλάτος.



Αν ένα σώμα μεταφερθεί στην επιφάνεια της σελήνης, θα έχει βάρος;

Όταν το σώμα βρίσκεται στην επιφάνεια της σελήνης, η γήινη βαρυτική δύναμη που ασκείται σ' αυτό είναι πάρα πολύ μικρή συγκριτικά με τη σεληνιακή. Το σώμα θα έχει βάρος που οφείλεται στη βαρυτική έλξη της σελήνης. Από πειράματα που έγιναν στη σελήνη επιβεβαιώθηκε ότι το «σεληνιακό» βάρος ενός σώματος είναι περίπου ίσο με το $\frac{1}{6}$ του γήινου βάρους του, που έχει όταν βρίσκεται στην επιφάνεια της γης.



Εικόνα 3.18.

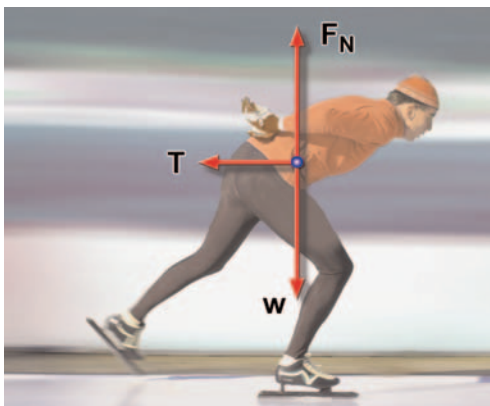
Η δύναμη που αντιστέκεται στην κίνηση της γόμας είναι η τριβή. Η τριβή σε βοηθάει να σβήσεις κάποιο λάθος από το γραπτό σου.

Τριβή

Σπρώξε το βιβλίο σου της Φυσικής πάνω στο θρανίο. Αυτό αρχίζει να κινείται και ύστερα από λίγο σταματά. Ποια δύναμη προκάλεσε το σταμάτημα του βιβλίου; Κίνησε τη γόμα σου πάνω στη σελίδα του τετραδίου σου (εικόνα 3.18). Ποια είναι η δύναμη που αισθάνεσαι να αντιστέκεται στην κίνηση της γόμας;

Η δύναμη που ασκείται και στις δυο παραπάνω περιπτώσεις και αντιστέκεται στην κίνηση των σωμάτων του βιβλίου και της γόμας αντίστοιχα, ονομάζεται **τριβή**. Η τριβή είναι παρούσα σε κάθε κίνηση, που παρατηρούμε στην καθημερινή μας ζωή. Η τριβή έχει ένα διπλό ρόλο στη ζωή μας. Από τη μια αντιστέκεται στην κίνηση των σωμάτων όπως στην κίνηση του έλκηθρου, του κολυμβητή και του αλεξιπτωιστή που πέφτει στον αέρα. Από την άλλη, η τριβή είναι η δύναμη που μας βοηθάει να βαδίσουμε. Αν δεν υπήρχε τριβή, θα γλιστρούσαμε, όπως όταν προσπαθούμε να βαδίσουμε πάνω σε πάγο. Η τριβή είναι απαραίτητη για την κίνηση ενός αυτοκινήτου. Χωρίς αυτή, οι τροχοί του αυτοκινήτου θα περιστρέφονταν στην ίδια θέση και το όχημα δε θα κινούνταν.

Γενικά, η τριβή είναι η δύναμη που ασκείται από ένα σώμα σε ένα άλλο όταν βρίσκονται σε επαφή και το ένα κινείται ή τείνει να κινηθεί σε σχέση με το άλλο. Η διεύθυνση της τριβής είναι παράλληλη προς τις επιφάνειες που εφάπτονται και έχει φορά τέτοια ώστε να αντιστέκεται στην ολίσθηση της μιας επιφάνειας πάνω στην άλλη (εικόνα 3.19).



Εικόνα 3.19.

Στον παγοδρόμο ασκούνται δυνάμεις από δύο σώματα: Το βάρος (W), που ασκείται από απόσταση από τη γη. Και εφόσον υπάρχουν τριβές, οι δυνάμεις από το δάπεδο: η κάθετη στην επιφάνεια F_N και η τριβή T .

Πώς σχεδιάζουμε τις δυνάμεις

Για να προσδιορίσουμε τον τρόπο που κινείται ένα σώμα, θα πρέπει να συνδέσουμε την κίνησή του (αποτέλεσμα) με την αιτία που την προκαλεί (δύναμη). Το πρώτο βήμα προς αυτή την κατεύθυνση είναι να προσδιορίσουμε τις δυνάμεις που ασκούνται στο σώμα που μελετάμε. Σ' ένα σώμα είναι δυνατόν να ασκούνται περισσότερες από μια δυνάμεις. Για να σχεδιάσουμε όλες τις

δυνάμεις που ασκούνται σ' ένα σώμα, ακολουθούμε την παρακάτω πορεία:

Πρώτο: Επιλέγουμε το σώμα που μας ενδιαφέρει. Υπενθυμίζουμε ότι αντιμετωπίζουμε όλα τα σώματα ως υλικά σημεία.

Δεύτερο: Σχεδιάζουμε τις δυνάμεις από απόσταση που ασκούνται στο σώμα, όπως για παράδειγμα το βάρος του.

Τρίτο: Εντοπίζουμε όλα τα υπόλοιπα σώματα με τα οποία αυτό βρίσκεται σε επαφή. Κάθε ένα από αυτά του ασκεί δύναμη.

Αν το σώμα βρίσκεται σε επαφή με επιφάνεια, υπάρχουν δυο περιπτώσεις: α) Η επιφάνεια να είναι λεία (δεν υπάρχουν τριβές), οπότε η δύναμη που ασκεί στο σώμα είναι κάθετη προς την επιφάνεια με φορά από την επιφάνεια προς το σώμα. β) Η επιφάνεια να είναι τραχιά (υπάρχουν τριβές), οπότε εκτός από την κάθετη δύναμη, η επιφάνεια ασκεί στο σώμα και τη δύναμη της τριβής έτσι ώστε να αντιστέκεται στην κίνηση του σώματος (εικόνα 3.19).

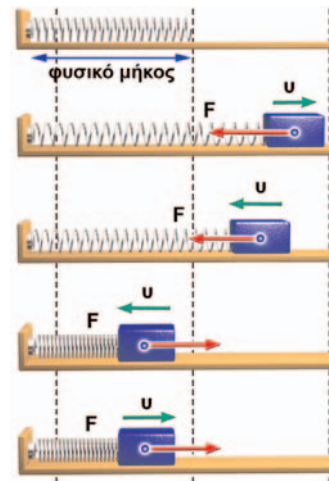
Αν το σώμα είναι σε επαφή με νήμα ή σύρμα, τότε η δύναμη που ασκεί το νήμα έχει τη διεύθυνση του νήματος και φορά από το σώμα προς το νήμα. Το νήμα ασκεί δύναμη μόνον εφόσον είναι τεντωμένο (εικόνα 3.20).

Αν το σώμα είναι σε επαφή με ελατήριο, τότε αυτό ασκεί δύναμη στο σώμα που έχει τη διεύθυνση του ελατηρίου και φορά τέτοια, ώστε να τείνει να επαναφέρει το ελατήριο προς το φυσικό του μήκος (εικόνα 3.21). Τα ελατήρια ασκούν δυνάμεις μόνον εφόσον είναι σε συμπίεση ή επιμήκυνση. Ελατήρια που έχουν το φυσικό τους μήκος δεν ασκούν δυνάμεις.



Εικόνα 3.20.

Το σύρμα είναι τεντωμένο και σε επαφή με τη σφύρα. Το σύρμα ασκεί δύναμη στη σφύρα. Η το χέρι του σφαιροβάλλου, μέσω του σύρματος, ασκεί δύναμη στη σφύρα.



Εικόνα 3.21. ▶

Η δύναμη που ασκεί το ελατήριο στο σώμα τείνει να το επαναφέρει στο φυσικό του μήκος.

Παράδειγμα 3.1

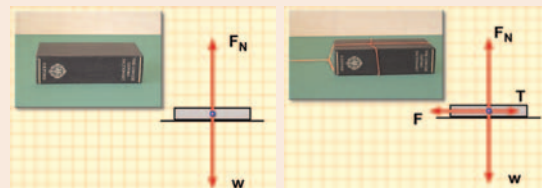
Να σχεδιάσεις τις δυνάμεις που ασκούνται στο βιβλίο της Φυσικής που βρίσκεται πάνω στο θρανίο σου. Δέσε το βιβλίο με ένα σχοινί και σύρε το πάνω στο θρανίο. Να σχεδιάσεις όλες τις δυνάμεις που ασκούνται τώρα στο βιβλίο.

Α. Σώμα στο οποίο σχεδιάζονται οι δυνάμεις: Το βιβλίο

Β. Δυνάμεις από απόσταση: Το βάρος W (ασκείται από τη γη)

Γ. Δυνάμεις από επαφή:

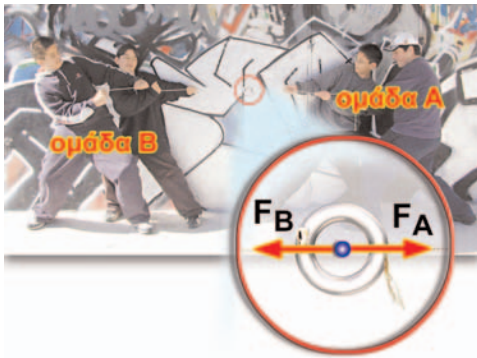
- Η δύναμη F από το νήμα (ασκείται από το νήμα)
- Η δύναμη από το θρανίο (υπάρχουν τριβές)-η τριβή T και κάθετη δύναμη F_N



3.3 Σύνθεση και ανάλυση δυνάμεων

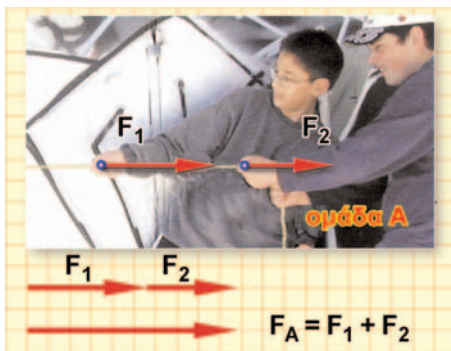
Σύνθεση δυνάμεων - Συνισταμένη

Στην εικόνα 3.22 παριστάνονται τέσσερις μαθητές που τραβούν έναν κρίκο. Κάθε μαθητής ασκεί με το χέρι του, μέσω του σκοινιού, μια δύναμη σ' αυτόν. Στα σώματα συχνά ασκούνται περισ-



Εικόνα 3.22.

Οι μαθητές μέσω των σχοινιών ασκούν δυνάμεις στον κρίκο αμαξάκι προσπαθώντας να το τραβήξουν προς το μέρος τους.

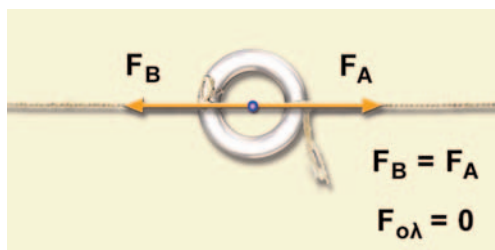
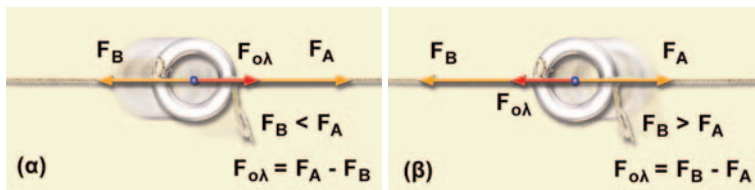


Εικόνα 3.23.

Οι μαθητές ασκούν δυο δυνάμεις ίδιας κατεύθυνσης μέσω του σχοινού στον κρίκο. Το μέτρο της συνισταμένης είναι ίσο με το άθροισμα των μέτρων τους.

Εικόνα 3.24. ▶

(α) Η δύναμη F_A που ασκεί η ομάδα Α, έχει μεγαλύτερο μέτρο από την F_B που ασκεί η ομάδα Β: Ο κρίκος κινείται προς τα δεξιά. (β) Η δύναμη F_A που ασκεί η ομάδα Α, έχει μικρότερο μέτρο από την F_B που ασκεί η ομάδα Β: Ο κρίκος κινείται προς τα αριστερά.



Εικόνα 3.25.

Οι δυο δυνάμεις έχουν ίσα μέτρα και αντίθετες φορές: Ο κρίκος παραμένει ακίνητος.

σότερες από μια δυνάμεις. Η δύναμη εκείνη που προκαλεί τα ίδια αποτελέσματα με το σύνολο των επιμέρους δυνάμεων, δηλαδή η συνολική δύναμη, λέγεται **συνισταμένη**.

Σύνθεση δυνάμεων με την ίδια διεύθυνση

Πώς θα βρούμε τη συνισταμένη των δυνάμεων που ασκούνται από τους μαθητές στον κρίκο που εικονίζεται στην εικόνα 3.22;

Αρχικά θα βρούμε τη συνολική δύναμη που ασκεί η κάθε ομάδα των μαθητών χωριστά και στη συνέχεια θα βρούμε τη συνολική δύναμη που ασκούν οι δυο ομάδες. Στην εικόνα 3.23 με F_1 , F_2 παριστάνουμε τις δυνάμεις που ασκούν οι μαθητές της δεξιάς ομάδας (Α ομάδα) και με F_A τη συνισταμένη τους. Στο σχήμα της εικόνας 3.23 παριστάνεται ο τρόπος με τον οποίο συνθέτουμε δυνάμεις που έχουν την ίδια διεύθυνση και φορά, ώστε να προσδιορίσουμε τη συνολική δύναμη.

Εάν δύο ή περισσότερες δυνάμεις με μέτρα F_1 , F_2 κτλ., έχουν την ίδια διεύθυνση και φορά, η συνισταμένη τους ($F_{ολ}$) έχει τη διεύθυνση και φορά των δυνάμεων και μέτρο:

$$F_{ολ} = F_A = F_1 + F_2$$

Στις εικόνες 3.24 και 3.25 με F_A , F_B παριστάνουμε τη συνισταμένη δύναμη που ασκεί κάθε μια από τις δυο ομάδες. Οι δυνάμεις αυτές έχουν αντίθετη φορά.

Εάν δυο δυνάμεις με μέτρα F_A και F_B έχουν αντίθετη φορά, η συνισταμένη τους έχει τη φορά της μεγαλύτερης και μέτρο (εικόνα 3.24):

$$F_{ολ} = F_A - F_B$$

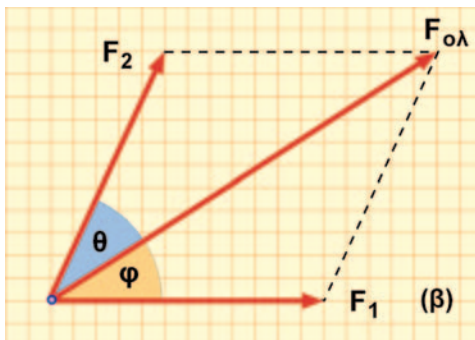
Στην ειδική περίπτωση που οι δυνάμεις έχουν και ίσα μέτρα, η συνισταμένη τους ισούται με το μηδέν. Δύο τέτοιες δυνάμεις λέγονται **αντίθετες** (εικόνα 3.25).

Σύνθεση δυνάμεων με διαφορετικές διευθύνσεις

Τρεις μαθητές πειραματίζονται σχετικά με τον τρόπο σύνθεσης δυνάμεων με διαφορετικές διευθύνσεις. Οι δύο από αυτούς δένουν μια κασετίνα στις άκρες δυο δυναμόμετρων. Κρατούν τα δυναμόμετρα έτσι ώστε να σχηματίζουν γωνία 90° και ανασηκώνουν την κασετίνα (εικόνα 3.26). Διαβάζουν τις ενδείξεις των δυναμόμετρων, οι οποίες είναι 4 N και 3 N αντίστοιχα. Ο τρίτος μαθητής δένει την κασετίνα στην άκρη ενός δυναμόμετρου και την ανασηκώνει κρατώντας το δυναμόμετρο κατακόρυφο. Η ένδειξη του δυναμόμετρου είναι 5 N. Οι μαθητές παρατηρούν ότι και στις δυο περιπτώσεις η κασετίνα παραμένει ακίνητη-ισορροπεί. Για να ερμηνεύσουν τις παρατηρήσεις τους, υποθέτουν ότι η

δύναμη που ασκεί ο τρίτος μαθητής είναι ίση με τη συνισταμένη των δυνάμεων που ασκούν οι δυο άλλοι μαθητές (εικόνα 3.26). Σχεδιάζουν τις δυνάμεις των 3 N και 4 N, όπως παρασπύεται στην εικόνα 3.27α. Παρατηρούν ότι η διαγώνιος του παραλληλογράμμου που σχηματίζεται έχει μέτρο 5 N και είναι κατακόρυφη. Είναι δηλαδή ίση με τη συνισταμένη τους. Συμπεραίνουν ότι η συνισταμένη των δυο δυνάμεων παρισπύεται από τη διαγώνιο του παραλληλογράμμου που αυτές σχηματίζουν (εικόνα 3.27α).

Γενικά, για να συνθέσουμε δυο δυνάμεις με διαφορετικές διευθύνσεις, σχηματίζουμε το **παραλληλόγραμμα** που έχει πλευρές τα διανύσματα που παρισπύουν τις δυνάμεις. Η διαγώνιος του παραλληλογράμμου, που περνάει από την κοινή αρχή των διανυσμάτων, παρισπύει τη συνισταμένη των δυνάμεων. Το μέτρο της συνισταμένης καθορίζεται από το μήκος της διαγωνίου. Η διεύθυνσή της προσδιορίζεται από τη γωνία που σχηματίζει με μια από τις δυο δυνάμεις (φ ή θ , εικόνα 3.27β). Κάθε μια από αυτές τις γωνίες μπορεί να μετρηθεί με ένα μοιρογνωμόνιο.



Στην ειδική περίπτωση που οι δυνάμεις είναι κάθετες μεταξύ τους (εικόνα 3.27α), μπορούμε να υπολογίσουμε το μήκος της διαγωνίου εφαρμόζοντας το Πυθαγόρειο θεώρημα.

Έτσι βρίσκουμε ότι:

$$F_{\text{ολ}}^2 = F_1^2 + F_2^2$$

Στο παράδειγμά μας, η συνισταμένη των δυνάμεων που ασκούν οι δυο μαθητές στην κασετίνα έχει μέτρο $F_{\text{ολ}}$, που υπολογίζεται από την προηγούμενη σχέση:

$$F_{\text{ολ}}^2 = (4 \text{ N})^2 + (3 \text{ N})^2 \quad \text{ή} \quad F_{\text{ολ}}^2 = 16 \text{ N}^2 + 9 \text{ N}^2 \quad \text{ή}$$

$$F_{\text{ολ}}^2 = 25 \text{ N}^2 \quad \text{ή} \quad F_{\text{ολ}}^2 = 5^2 \text{ N}^2 \quad \text{ή} \quad F_{\text{ολ}} = 5 \text{ N}$$

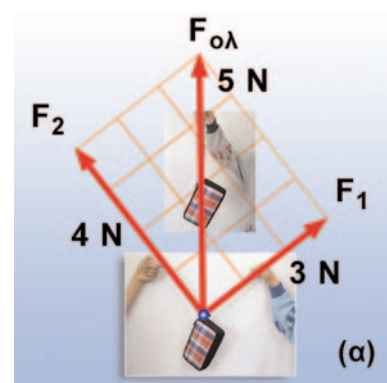
Δύναμη που ασκείται από τραχιά επιφάνεια

Μια τραχιά επιφάνεια ασκεί σ' ένα σώμα που κινείται (ή τείνει να κινηθεί επάνω της) την κάθετη στην επιφάνεια δύναμη F_N και τη δύναμη της τριβής T . Προκειμένου να υπολογίσουμε τη δύναμη που ασκείται από την τραχιά επιφάνεια στο σώμα, θα πρέπει να συνθέσουμε τις δυο αυτές δυνάμεις που είναι πάντα κάθετες μεταξύ τους και επομένως ισχύει: $F^2 = F_N^2 + T^2$. Προσέξτε, η επιφάνεια ασκεί μια δύναμη στο σώμα, την F , που είναι η συνισταμένη της κάθετης και της τριβής (εικόνα 3.28).



Εικόνα 3.26.


Η δύναμη των 5 N που ασκεί ο τρίτος μαθητής προκαλεί το ίδιο αποτέλεσμα με τις δυνάμεις που ασκούν οι άλλοι δύο μαζί. Έτσι λέμε ότι η συνισταμένη δύναμη των 3 N και 4 N που ασκούν οι δύο πρώτοι μαθητές, είναι ίση με τη δύναμη των 5 N που ασκεί ο τρίτος.



Εικόνα 3.27.


Η συνισταμένη των δυνάμεων F_1 και F_2 παρισπύεται από τη διαγώνιο του παραλληλογράμμου που σχηματίζουν οι δυο δυνάμεις.

Φυσική και καθημερινή ζωή



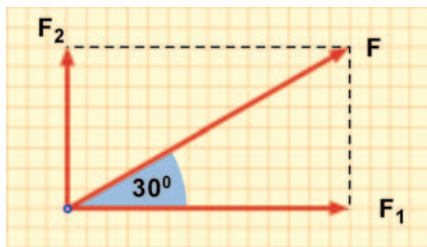
Εικόνα 3.28.

Το έδαφος ασκεί στο πόδι μας: την τριβή T που είναι παράλληλη προς το έδαφος και μας σπρώχνει μπροστά και την κάθετη δύναμη F_N που είναι αντίθετη με το βάρος του σώματος. Η δύναμη που ασκεί το έδαφος στο πόδι μας F είναι η συνισταμένη των δυο αυτών δυνάμεων.




Εικόνα 3.29.

Το σκονί ασκεί δύναμη στο αυτοκινητάκι, η διεύθυνση της οποίας συμπίπτει με αυτή του νήματος.



Εικόνα 3.30.

Η δύναμη F αναλύεται στις F_1 και F_2 .



Εικόνα 3.31.

Δυνάμεις σε κεκλιμένο επίπεδο.

Ανάλυση του βάρους ενός σώματος που βρίσκεται πάνω σε κεκλιμένο επίπεδο. Αν το επίπεδο είναι λείο, όπως για παράδειγμα η παγωμένη επιφάνεια μιας χιονοδρομικής πίστας, τότε από το επίπεδο ασκείται μόνο η κάθετη δύναμη F_N .

Ανάλυση δύναμης

Κάθε δύναμη μπορεί να αναλυθεί σε δυο επιμέρους δυνάμεις που λέγονται **συνιστώσες** και την έχουν συνισταμένη. Συνήθως η ανάλυση γίνεται σε δυο διευθύνσεις κάθετες μεταξύ τους. Στην εικόνα 3.29 ένα μικρό αυτοκινητάκι τραβιέται με ένα σκονί που σχηματίζει γωνία 30° με το οριζόντιο έδαφος. Μέσω του σκονιού ασκείται στο αυτοκινητάκι δύναμη μέτρου $F=12\text{ N}$.

Για να αναλύσουμε τη δύναμη σε δυο κάθετες συνιστώσες, δηλαδή να βρούμε δυο δυνάμεις που θα προκαλούσαν τα ίδια αποτελέσματα με τη δύναμη F , ακολουθούμε την παρακάτω πορεία:

Σχεδιάζουμε δυο κάθετους άξονες, στην περίπτωση μας έναν οριζόντιο και έναν κατακόρυφο.

Η δύναμη F σχεδιάζεται με κατάλληλη κλίμακα και με διεύθυνση τέτοια ώστε να σχηματίζει γωνία 30° με τον οριζόντιο άξονα. Από το τέλος του διανύσματος που παριστάνει την F , φέρνουμε παράλληλες προς τους δυο άξονες. Τα σημεία τομής με τους άξονες καθορίζουν τα άκρα των διανυσμάτων της οριζόντιας και της κατακόρυφης συνιστώσας.

Μετρώντας τα μήκη των διανυσμάτων και χρησιμοποιώντας την ίδια κλίμακα με την οποία σχεδιάσαμε την F , μπορούμε να προσδιορίσουμε τα μέτρα των συνιστωσών, F_1 και F_2 (εικόνα 3.30)

Ανάλυση δύναμης σε κεκλιμένο επίπεδο

Δεν υπάρχει γενικός κανόνας που να καθορίζει ότι οι διευθύνσεις στις οποίες γίνεται η ανάλυση των δυνάμεων πρέπει να είναι η κατακόρυφη και η οριζόντια. Για παράδειγμα, όταν μελετάμε την κίνηση σε κεκλιμένο επίπεδο, μπορούμε να αναλύσουμε τις δυνάμεις σε μια διεύθυνση κάθετη και μια παράλληλη στο κεκλιμένο επίπεδο (εικόνα 3.31).

Δραστηριότητα

Διανύσματα δυνάμεων

- ▶ Δύο μαθητές της τάξης σου τραβάνε από τα δυο άκρα ένα σχοινί μήκους 10 μέτρων.

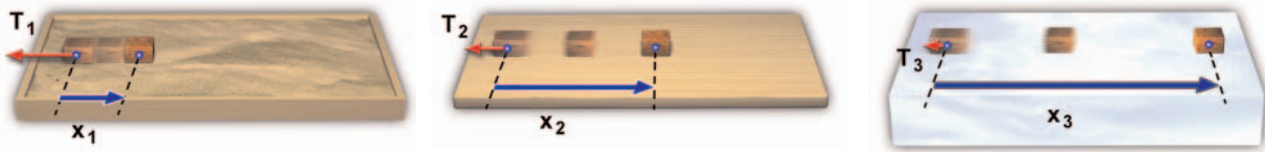
Το σχοινί φαίνεται να είναι ευθύγραμμο;

- ▶ Κάλεσε έναν από τους άλλους συμμαθητές σου να προσπαθήσει με το ένα δάχτυλο να σπρώξει το μέσο του σχοινού.
- ▶ Μπορούν οι πρώτοι μαθητές να διατηρήσουν το σχοινί ευθύγραμμο;
- ▶ Προσπάθησε να δώσεις μια εξήγηση γι' αυτό που συμβαίνει.

3.4 Δύναμη και ισορροπία

Τοποθετούμε ένα ξύλινο κιβώτιο πάνω σε τραχύ έδαφος. Σπρώχνουμε το κιβώτιο προς τα εμπρός. Το κιβώτιο θα σταματήσει σχεδόν αμέσως μόλις αφήσουμε το χέρι μας. Το κιβώτιο σταματά γιατί ασκείται σ' αυτό η δύναμη της τριβής από το έδαφος που αντιτίθεται στην κίνησή του.

Εάν σπρώξουμε το κιβώτιο σε λείο ξύλινο πάτωμα, το κιβώτιο θα ολισθήσει περισσότερο. Η τριβή που ασκείται από το πάτωμα στο κιβώτιο είναι τώρα μικρότερη. Αν κάνουμε το ίδιο στην



Εικόνα 3.32.

Όσο πιο λεία είναι η επιφάνεια, τόσο λιγότερο η τριβή αντιστέκεται στην κίνηση του σώματος.

παγωμένη επιφάνεια ενός παγοδρομίου, το κιβώτιο θα μετακινηθεί πολύ περισσότερο. Η τριβή που ασκείται από την παγωμένη επιφάνεια σ' αυτό είναι τώρα ακόμα μικρότερη (εικόνα 3.32).

Αν τοποθετήσουμε ένα νόμισμα σε μια αεροτράπεζα (εικόνα 3.33), τότε από την τράπεζα δεν ασκείται δύναμη στο νόμισμα η οποία θα μπορούσε να ελαττώσει την ταχύτητά του.

Έτσι, αυτό ολισθαίνει με σχεδόν σταθερή ταχύτητα για μια μεγάλη απόσταση χωρίς κανένα πρόσθετο σπρώξιμο από εμάς.

Ο Γαλιλαίος ισχυρίστηκε ότι **ένα τέλειο λείο αντικείμενο πάνω σε μια επίσης τέλεια λεία οριζόντια επιφάνεια θα μπορούσε να κινείται επ' άπειρο σε ευθεία γραμμή.**

Υπάρχουν στη φύση τέλεια λείες επιφάνειες; Αν όχι, έχει νόημα ο ισχυρισμός του Γαλιλαίου;

Είδαμε στην προηγούμενη παράγραφο ότι η δύναμη της τριβής είναι παρούσα σε κάθε κίνηση της καθημερινής μας ζωής. Φαίνεται λοιπόν ότι ο ισχυρισμός του Γαλιλαίου δεν μπορεί να εφαρμοστεί στην καθημερινή μας εμπειρία. Αυτό όμως δεν είναι αλήθεια, γιατί μπορούμε να μη λάβουμε υπόψη μας τη δύναμη της τριβής όταν αυτή είναι πάρα πολύ μικρή ή όταν ασκείται για πολύ μικρό χρονικό διάστημα, όπως συμβαίνει στις απότομες κινήσεις.

Αργότερα ο Νεύτωνας χρησιμοποιώντας την έννοια της δύναμης διατύπωσε πιο ολοκληρωμένα την άποψη του Γαλιλαίου ως εξής:

Ένα σώμα συνεχίζει να παραμένει ακίνητο ή να κινείται ευθύγραμμα και ομαλά εφόσον δεν ασκείται σε αυτό δύναμη ή η συνολική (συνισταμένη) δύναμη που ασκείται πάνω του είναι μηδενική.

Η παραπάνω πρόταση αποτελεί τον πρώτο νόμο του Νεύτωνα για την κίνηση των σωμάτων.


Η πρόταση αυτή του Νεύτωνα συνδέεται με μια ιδιότητα των σωμάτων που ονομάζεται αδράνεια.

Αδράνεια είναι η τάση των σωμάτων να αντιστέκονται σε οποιαδήποτε μεταβολή της κινητικής τους κατάστασης (ταχύτητας).

- Για να πετύχουμε μεγάλες ταχύτητες στα σύγχρονα μέσα μεταφοράς, προσπαθούμε να μειώσουμε όσο το δυνατόν περισσότερο τη δύναμη της τριβής.
- Αναζήτησε το κοινό χαρακτηριστικό μεταξύ των τρένων υψηλής ταχύτητας και της αεροτράπεζας.
- Γράψε ένα κείμενο για το πώς φαντάζεσαι ότι θα ήταν η ζωή και οι μεταφορές στην Ελλάδα, αν οι πρωτεύουσες των νομών της συνδέονταν με τρένα τέτοιων ταχυτήτων.


Δραστηριότητα

Αδράνεια, μια ιδιότητα της ύλης



- ▶ Πάρε ένα βιβλίο και βάλε πάνω του ένα κέρμα.
- ▶ Δίπλα στο βιβλίο και στο ύψος του κέρματος βάλε τη γόμα σου.
- ▶ Τράβηξε απότομα το βιβλίο οριζόντια. Τι παρατηρείς; Πώς το εξηγείς;
- ▶ Αν δεν τραβήξεις απότομα το βιβλίο, τι θα συμβεί; Πώς το εξηγείς;

Φυσική και Τεχνολογία




Εικόνα 3.33.

Στην αεροτράπεζα διοχετεύουμε αέρα που βγαίνει από τις μικρές τρύπες που υπάρχουν στην επιφάνειά της. Μεταξύ του σώματος που κινείται και της τράπεζας δημιουργείται στρώμα αέρα. Έτσι μειώνουμε σημαντικά τη δύναμη της τριβής.



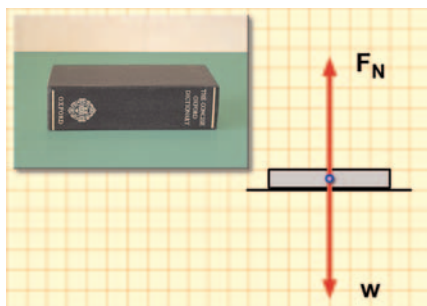
3.5

Ισορροπία υλικού σημείου



Εικόνα 3.34.

Στην κασετίνα ασκούνται δυο αντίθετες δυνάμεις. Η κασετίνα ισορροπεί.



Εικόνα 3.35.

Το βιβλίο ισορροπεί. Οι δυνάμεις που ασκούνται σ' αυτό είναι αντίθετες.

Ας θυμηθούμε το παράδειγμα με τους μαθητές που τραβούν με σκοινιά έναν κρίκο (παράγραφος 3.3). Είδαμε ότι αν η συνισταμένη των δυνάμεων που οι μαθητές ασκούν στον κρίκο είναι μηδέν, τότε αυτός θα παραμείνει ακίνητος. Με βάση αυτή την παρατήρηση, μπορούμε να πούμε ότι ο πρώτος νόμος του Νεύτωνα αποτελεί και τη διατύπωση της **συνθήκης για την ισορροπία ενός υλικού σημείου**.

Λέμε ότι ένα σώμα, που θεωρείται υλικό σημείο, ισορροπεί όταν είναι ακίνητο ή κινείται με σταθερή ταχύτητα. Σε αυτή την περίπτωση, σύμφωνα με τον πρώτο νόμο του Νεύτωνα, η συνισταμένη όλων των δυνάμεων που ασκούνται σε αυτό είναι ίση με το μηδέν. Συμβολικά, η συνθήκη ισορροπίας υλικού σημείου γράφεται:

$$\vec{F}_{ολικο} = 0$$

Στην εικόνα 3.35 η κασετίνα ισορροπεί διότι σε αυτή ασκούνται δυο αντίθετες δυνάμεις. Το βάρος, η δύναμη που ασκεί η γη από απόσταση και είναι ίση με 5 N και η δύναμη που ασκεί το δυναμόμετρο, που είναι επίσης ίση με 5 N.

Όταν ένα σώμα ισορροπεί, μπορούμε να εφαρμόσουμε τη συνθήκη ισορροπίας και να υπολογίσουμε κάποιες από τις άγνωστες δυνάμεις που ασκούνται σ' αυτό. Ένα βιβλίο βρίσκεται σε ηρεμία πάνω στο θρανίο σου (εικόνα 3.35). Το βάρος του βιβλίου, που είναι μια δύναμη από απόσταση, έχει μέτρο 10 N.

Ασκείται άλλη δύναμη στο βιβλίο; Αν ναι, μπορούμε να την προσδιορίσουμε; Το βάρος του βιβλίου είναι μια κατακόρυφη δύναμη με φορά προς τα κάτω. Εφόσον το βιβλίο ισορροπεί, του ασκείται μια δύναμη επαφής από το θρανίο που είναι αντίθετη με το βάρος. Δηλαδή, είναι κατακόρυφη με φορά προς τα πάνω και έχει μέτρο ίσο με 10 N. Στο δυναμόμετρο που παριστάνεται στην εικόνα 3.10 ο κύβος ισορροπεί, διότι το ελατήριο ασκεί σ' αυτόν μια δύναμη αντίθετη με το βάρος του.

Ανάλυση δυνάμεων και ισορροπία

Κατά την εφαρμογή της συνθήκης ισορροπίας, συχνά διευκολυνόμαστε με την ανάλυση κάποιων δυνάμεων σε δυο κάθετες συνιστώσες κατά τις διευθύνσεις x, y. Τότε, η συνθήκη ισορροπίας ισχύει χωριστά για κάθε διεύθυνση.

$$F_{ολx} = 0 \text{ και } F_{ολy} = 0$$

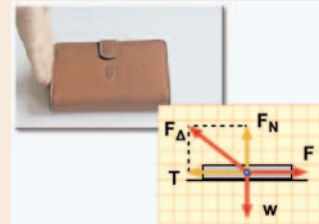
Η επιλογή των διευθύνσεων γίνεται βέβαια με κριτήριο να απαιτηθεί η ανάλυση όσο το δυνατόν λιγότερων δυνάμεων.

Παράδειγμα 3.2

Μια κασετίνα βάρους 3 N ηρεμεί σε οριζόντιο δάπεδο, ενώ τη σπρώχνουμε με το χέρι μας ασκώντας σταθερή οριζόντια δύναμη μέτρου 4 N. Να υπολογιστούν τα μέτρα:

α) της τριβής: T , β) της κάθετης δύναμης που ασκεί το δάπεδο: F_N , γ) της συνισταμένης δύναμης από το δάπεδο: F_{Δ}

Δεδομένα	Ζητούμενα	Βασική εξίσωση
$W=3 \text{ N}$, $F=4 \text{ N}$	α) F_N β) T γ) F_{Δ}	$F_{ολx}=0$ $F_{ολy}=0$



Λύση

Βήμα 1: Σχεδιάζουμε τις δυνάμεις που ασκούνται στο σώμα:

Από απόσταση: το βάρος $W=3 \text{ N}$, κατακόρυφη με φορά προς τα κάτω.

Από επαφή: Η δύναμη από το χέρι (τείνει να κινήσει την κασετίνα) $F=4 \text{ N}$.

Από το δάπεδο (η κάθετη F_N με φορά από το δάπεδο προς το σώμα και η τριβή που αντιτίθεται στην κίνηση).

Βήμα 2: Υπολογίζουμε τα μέτρα των δυνάμεων:

A. Επιλέγουμε δυο κάθετες διευθύνσεις [την οριζόντια (x) και την κατακόρυφη (y)]

B. Εφαρμόζουμε τη συνθήκη ισορροπίας για τους δυο άξονες – Βασική εξίσωση:

$$F_{ολx}=0, \quad F-T=0 \quad F=T \quad T=5 \text{ N}$$

$$F_{ολy}=0 \quad W-F_N=0 \quad W=F_N \quad F_N=4 \text{ N}$$

Γ. Η δύναμη που ασκεί το δάπεδο είναι η συνισταμένη των F_N και T

$$F_{\Delta}^2 = T^2 + F_N^2, \quad F_{\Delta}^2 = (4 \text{ N})^2 + (3 \text{ N})^2$$

$$F_{\Delta}^2 = 16 \text{ N}^2 + 9 \text{ N}^2, \quad F_{\Delta}^2 = 25 \text{ N}^2, \quad F_{\Delta} = 5 \text{ N}$$

3.6 Δύναμη και μεταβολή της ταχύτητας

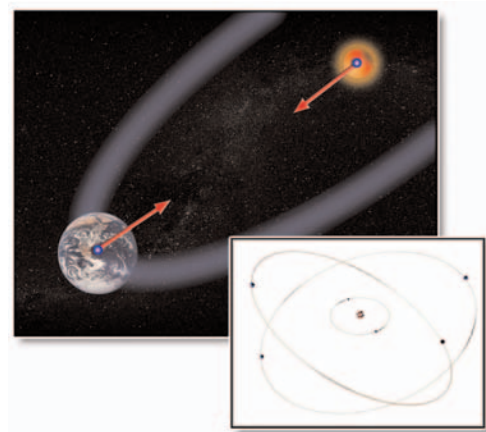
Κατά την περιφορά της γης γύρω από τον ήλιο, η ταχύτητά της διαρκώς μεταβάλλεται. Η αιτία που προκαλεί τη μεταβολή της ταχύτητας της γης είναι η ελκτική δύναμη που ασκεί ο ήλιος σ' αυτή (εικόνα 3.36). Πώς σχετίζεται η δύναμη που ασκεί ο ήλιος στη γη με τη μεταβολή της ταχύτητάς της;

Αντίστοιχα, ένα ηλεκτρόνιο περιφέρεται γύρω από τον πυρήνα εξαιτίας της ελκτικής δύναμης που ασκείται σ' αυτό από τον πυρήνα (εικόνα 3.36). Ποια είναι η σχέση της κίνησης του ηλεκτρονίου με τη δύναμη που ασκεί ο πυρήνας σ' αυτό;

Μια από τις σημαντικότερες κατακτήσεις της επιστήμης είναι η κατανόηση του τρόπου με τον οποίο οι δυνάμεις που ασκούνται σ' ένα σώμα καθορίζουν την κίνησή του. Στις επόμενες παραγράφους θα συζητήσουμε τη σχέση δύναμης και κίνησης και το νόμο της αλληλεπίδρασης δυο σωμάτων, καθώς και εφαρμογές αυτών των νόμων στην καθημερινή ζωή.

Είδαμε ότι η δύναμη είναι η αιτία που προκαλεί μεταβολή στην ταχύτητα των σωμάτων. Με ποιο τρόπο συνδέεται η δύναμη με τη μεταβολή της ταχύτητας;

Όσο μεγαλύτερη είναι η δύναμη που ασκείται σ' ένα σώμα που έχει ορισμένη μάζα, τόσο πιο γρήγορα μεταβάλλεται η ταχύτητά του.



Εικόνα 3.36.

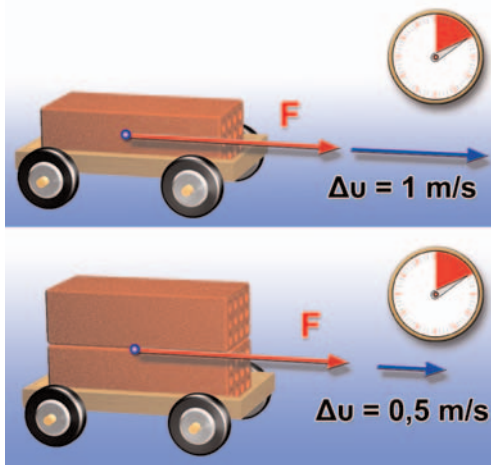
Η δύναμη που ασκεί ο πυρήνας στο ηλεκτρόνιο προκαλεί την κίνησή του γύρω απ' αυτόν. Η βαρυτική έλξη που ασκεί ο ήλιος στη γη, προκαλεί την περιφορά της γύρω του.

Φυσική
και Ιστορία

Εικόνα 3.37.

Ο Ισαάκ Νεύτων (1642-1727)

Φυσικός, μαθηματικός και αστρονόμος είναι κορυφαία φυσιογνωμία της επιστημονικής επανάστασης του 17ου αιώνα. Το έργο του αναφέρεται στην Οπτική, Μηχανική και τα μαθηματικά. Στη Μηχανική διατύπωσε τους τρεις νόμους για την κίνηση των σωμάτων που αποτελούν τις βασικές αρχές για τη σύγχρονη φυσική. Επίσης διατύπωσε το νόμο της παγκόσμιας έλξης.




Εικόνα 3.38.

Σε σώμα διπλάσιας μάζας η ίδια δύναμη προκαλεί τη μισή μεταβολή της ταχύτητας.

Δραστηριότητα**Αδράνεια, μια ιδιότητα της ύλης**

- ▶ Κρέμασε δυο κουτάκια αναψυκτικών με δυο νήματα ίσου μήκους, ένα γεμάτο και ένα άδειο.
- ▶ Άφησέ τα να ισορροπήσουν.
- ▶ Σκέψου με ποιο τρόπο μπορείς να διακρίνεις το άδειο από το γεμάτο κουτί, χωρίς να τα ακουμπήσεις.



Ο Νεύτωνας διατύπωσε με σαφήνεια και ακρίβεια τη σχέση της δύναμης και της μεταβολής της ταχύτητας με τη βοήθεια μιας απλής μαθηματικής εξίσωσης γνωστής και ως «δεύτερος νόμος του Νεύτωνα» για την κίνηση. Το νόμο αυτό θα τον μελετήσετε σε μεγαλύτερη τάξη.

Η μάζα ανθίσταται στη μεταβολή της ταχύτητας

Αν αντικαταστήσουμε μια μπάλα του ποδοσφαίρου με μια μπάλα του μπάσκετ, ο ίδιος ποδοσφαιριστής ασκώντας την ίδια δύναμη κινεί δυσκολότερα την μπάλα του μπάσκετ.

Πώς εξηγείται αυτό;

Η μεταβολή της ταχύτητας εξαρτάται επίσης από τη μάζα του σώματος. Η μπάλα του μπάσκετ έχει μεγαλύτερη μάζα. Όσο μεγαλύτερη είναι η μάζα, τόσο μικρότερη είναι η μεταβολή της ταχύτητας που προκαλείται από την ίδια δύναμη, εφόσον αυτή ασκείται για το ίδιο χρονικό διάστημα (εικόνα 3.38).

Όσο μεγαλύτερη είναι η μάζα ενός σώματος, τόσο δυσκολότερα μπορεί να μεταβληθεί η ταχύτητά του.

Συνδυάζοντας την παραπάνω πρόταση με την έννοια της αδράνειας, μπορούμε να ισχυριστούμε ότι η μάζα ενός σώματος είναι το μέτρο της αδράνειάς του, δηλαδή της αντίστασης που παρουσιάζει το σώμα στη μεταβολή της κινητικής του κατάστασης. Μεγάλη μάζα σημαίνει μεγάλη αδράνεια, δηλαδή μεγάλη αντίσταση και άρα μικρή μεταβολή στην ταχύτητα (για δεδομένη δύναμη). Όταν το φορτηγό είναι φορτωμένο σταματάει δυσκολότερα παρά όταν είναι άδειο. Η ταχύτητα του φορτηγού μπορεί να μεταβληθεί ευκολότερα όταν αυτό είναι άδειο.

Μάζα και Βάρος

Πολλές φορές στη γλώσσα που χρησιμοποιούμε στην καθημερινή μας ζωή οι έννοιες της μάζας και του βάρους συγχέονται. Αυτό είναι πολύ πιθανόν να οφείλεται στο ότι η μέτρηση της μάζας ενός σώματος γίνεται μέσω του βάρους του. Ακόμα και όταν για τη μέτρηση της μάζας ενός σώματος χρησιμοποιούμε ζυγό ισορροπίας, το κάνουμε εξισώνοντας το βάρος του με το βάρος γνωστής μάζας. Επιπλέον χρησιμοποιούμε χωρίς διάκριση τη μονάδα κιλό και για τη μάζα και για το βάρος.

Για να διακρίνουμε με σαφήνεια τις δυο έννοιες, εντοπίζουμε τις βασικές διαφορές τους, οι οποίες παρουσιάζονται στον πίνακα 3.1.

Η μάζα ενός σώματος παραμένει η ίδια σε οποιοδήποτε σημείο του σύμπαντος και αν μεταφερθεί αυτό. Το βάρος του, όμως, μεταβάλλεται (εικόνα 3.39). Μια μπάλα του ποδοσφαίρου με μάζα 0,75 kg έχει βάρος 7,5 N στη γη, αλλά μόνο 1,25 N στη σεληνή. Κλοτσώντας όμως την μπάλα πάνω στην επιφάνεια της σεληνης, είναι εξίσου δύσκολο να την κινήσουμε όπως και στη γη, επειδή η μάζα της, της οποίας το μέτρο συνδέεται με την αδράνειά της, διατηρείται ίδια.

ΠΙΝΑΚΑΣ 3.1.

ΒΑΣΙΚΕΣ ΔΙΑΦΟΡΕΣ ΜΑΖΑΣ ΚΑΙ ΒΑΡΟΥΣ	
Μάζα	Βάρος
Είναι το μέτρο της αδράνειας ενός σώματος	Είναι η βαρυτική δύναμη που ασκεί η γη στο σώμα
Είναι μονόμετρο μέγεθος	Είναι διανυσματικό μέγεθος
Παραμένει ίδια σε οποιοδήποτε σημείο του σύμπαντος	Αλλάζει από τόπο σε τόπο
Μονάδα είναι το 1 kg	Μονάδα είναι το 1 N

Η μάζα και το βάρος ενός σώματος συνδέονται μέσω ενός μεγέθους που ονομάζεται **επιτάχυνση της βαρύτητας (g)** και μεταβάλλεται από τόπο σε τόπο.

Ισχύει:

$$w = m \cdot g$$

ή διαφορετικά, σε κάθε τόπο το πηλίκο του βάρους ενός σώματος προς τη μάζα του είναι σταθερό και ίδιο για όλα τα σώματα. Η τιμή του g στην επιφάνεια της γης είναι περίπου $9,8 \text{ m/s}^2$.

3.7 Δύναμη και αλληλεπίδραση

Παρατηρώντας έναν αγώνα κωπηλασίας βλέπεις τους κωπηλάτες να ασκούν με τα κουπιά δύναμη στο νερό και να το σπρώχνουν προς τα πίσω. Ποια δύναμη σπρώχνει τη βάρκα προς τα μπροστά; Πριν από περίπου 300 χρόνια ο Νεύτωνας διακήρυξε ότι στη φύση υπάρχει συμμετρία και ότι όλες οι δυνάμεις πρέπει να θεωρούνται ως δυνάμεις αλληλεπίδρασης μεταξύ δυο σωμάτων. Έτσι οι κωπηλάτες αλληλεπιδρούν με το νερό: ασκούν με τα κουπιά δύναμη στο νερό με φορά προς τα πίσω και το νερό ασκεί δύναμη στα κουπιά προς τα εμπρός (εικόνα 3.40). Το ίδιο συμβαίνει και όταν κλοτσάμε την μπάλα, στο πόδι μας αισθανόμαστε τη δύναμη που ασκεί η μπάλα σε αυτό. Όσο πιο δυνατά σπρώχνουμε τον τοίχο προς μια κατεύθυνση, άλλο τόσο μας σπρώχνει και ο τοίχος προς την αντίθετη.

Γενικεύοντας τις παρατηρήσεις του, ο Νεύτωνας διατύπωσε την πρόταση που είναι γνωστή ως τρίτος νόμος του Νεύτωνα:

Όταν ένα σώμα ασκεί δύναμη σ' ένα άλλο σώμα (δράση), τότε και το δεύτερο σώμα ασκεί δύναμη ίσου μέτρου και αντίθετης κατεύθυνσης στο πρώτο (αντίδραση).

Ή διαφορετικά,

Σε κάθε δράση αντιστοιχεί πάντα μια αντίθετη αντίδραση.

Στη φύση ποτέ δεν εκδηλώνεται η δράση χωρίς την αντίστοιχη αντίδραση. Όταν στεκόμαστε όρθιοι, ασκούμε στο πάτωμα κατακόρυφη δύναμη προς τα κάτω και το πάτωμα ασκεί πάνω μας μια ίση δύναμη με φορά προς τα πάνω (εικόνα 3.41). Όταν βαδίζουμε, ασκούμε με το πόδι μας στο πάτωμα μια επιπλέον οριζόντια δύναμη προς τα πίσω. Το πάτωμα ασκεί στο πόδι μας μια δύναμη (δύναμη τριβής) προς τα εμπρός ίσου μέτρου (εικόνα 3.42). Όταν κολυμπάμε, αλληλεπιδρούμε με το νερό. Σπρώχνουμε το νερό προς τα πίσω και το νερό μας σπρώχνει μπροστά.




Εικόνα 3.39.

Η μάζα του Άλτριν (Auldrin) δεν άλλαξε στη σελήνη. Το βάρος του όμως έγινε το 1/6 του βάρους που είχε στη γη.



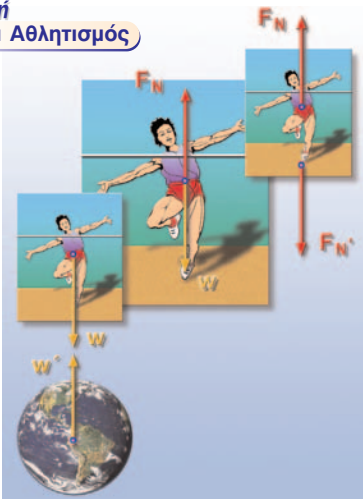
Εικόνα 3.40.

Το κουπί ασκεί δύναμη στο νερό και το νερό ασκεί δύναμη στο κουπί.



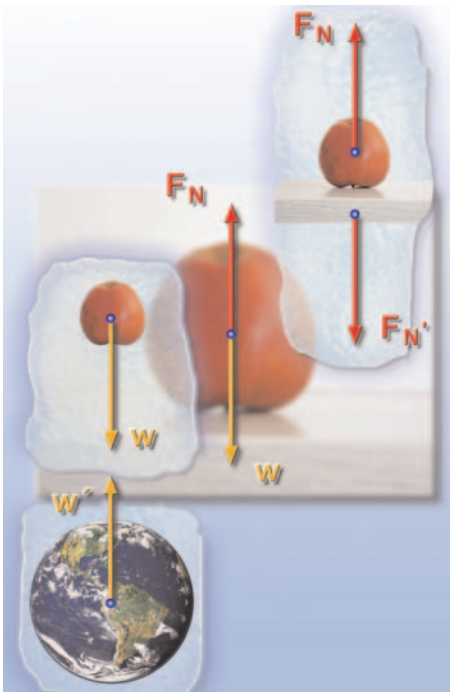
Εικόνα 3.41.

Το παιδί ασκεί δυνάμεις στο πάτωμα. Το πάτωμα ασκεί δυνάμεις στο παιδί.

Φυσική
και Αθλητισμός

Εικόνα 3.42.

Ο άλτης του ύψους σπρώχνει το έδαφος προς τα κάτω και το έδαφος στον σπρώχνει προς την αντίθετη κατεύθυνση. Έτσι ο αθλητής υπερνικά τη βαρύτητα και μπορεί να ανέβει σε ύψος μέχρι και 2,4 m.



Εικόνα 3.43.

Η γη ασκεί στο μήλο τη δύναμη του βάρους (W). Το μήλο ασκεί στη γη τη δύναμη (W'). Το τραπέζι ασκεί στο μήλο τη δύναμη F_N . Το μήλο ασκεί στο τραπέζι τη δύναμη F_N' . Οι δυνάμεις F_N και F_N' έχουν ίσα μέτρα και αντίθετες κατευθύνσεις.

Δεν έχει σημασία ποια από τις δυο δυνάμεις αποκαλούμε δράση και ποια αντίδραση, αρκεί να θυμόμαστε πάντα ότι συνυπάρχουν. Αυτό που είναι σημαντικό να θυμάστε είναι ότι **οι δυο δυνάμεις δράση-αντίδραση ασκούνται πάντοτε σε δύο διαφορετικά σώματα**.

Ας αναζητήσουμε τα ζεύγη δράσης-αντίδρασης των δυνάμεων που ασκούνται σ' ένα μήλο, το οποίο βρίσκεται σε ηρεμία πάνω στο τραπέζι (εικόνα 3.43). Εφαρμόζουμε τη συνθήκη ισορροπίας για το μήλο: η συνισταμένη δύναμη που ασκείται στο μήλο είναι μηδέν. Το βάρος του μήλου (W) εξισορροπείται από την κάθετη δύναμη (F_N) που το τραπέζι ασκεί στο μήλο. Οι δυνάμεις αυτές έχουν ίσα μέτρα και αντίθετες κατευθύνσεις. Ωστόσο, δεν αποτελούν ζεύγος δράση-αντίδραση, διότι προέρχονται από την αλληλεπίδραση του μήλου με δύο διαφορετικά σώματα: Το βάρος είναι η δύναμη που η γη ασκεί στο μήλο, ενώ την κάθετη δύναμη την ασκεί το τραπέζι στο μήλο. Όταν δυο σώματα αλληλεπιδρούν, στο ένα ασκείται η δράση και στο άλλο η αντίδραση. Η δράση και η αντίδραση είναι δυνάμεις που ασκούνται πάντοτε σε δύο διαφορετικά σώματα. Στην εικόνα 3.43 παριστάνονται τα σωστά ζεύγη δράσης-αντίδρασης.

Ένα μήλο πέφτει από τη μηλιά και κινείται προς το έδαφος. Οι βαρυτικές δυνάμεις ανάμεσα στο μήλο και τη γη, το W και το W' έχουν ίσα μέτρα και αντίθετες κατευθύνσεις. Το βάρος W προκαλεί την κίνηση του μήλου.

Γιατί η δύναμη που ασκεί το μήλο στη γη δεν προκαλεί την κίνηση της γης;

Η μάζα του μήλου είναι πολύ μικρότερη από τη μάζα της γης. Επομένως, η αδράνεια του μήλου είναι πολύ μικρότερη της αδράνειας της γης. Έτσι, η άσκηση δυνάμεων ίσου μέτρου προκαλεί πολύ μεγαλύτερη μεταβολή της ταχύτητας του μήλου από την αντίστοιχη της γης. Η μεταβολή της ταχύτητας της γης είναι τόσο πολύ μικρή που δε γίνεται αντιληπτή. Έτσι, η γη παραμένει ακίνητη, ενώ το μήλο κινείται προς αυτή (εικόνα 3.44).

Εφαρμογές

Ποια δύναμη ανυψώνει το ελικόπτερο; Τα φτερά της έλικας, όταν γυρίζουν, σπρώχνουν προς τα κάτω τα μόρια του αέρα (δράση). Τα μόρια του αέρα ωθούν την έλικα προς τα πάνω (αντίδραση). Η προς τα πάνω συνολική δύναμη που ασκούν τα μόρια του αέρα στην έλικα, λέγεται δυναμική άωση. Όταν η δυναμική άωση εξισωθεί με το βάρος του ελικοπτερου, αυτό μπορεί να διατηρηθεί σε σταθερό ύψος. Όταν η δυναμική άωση γίνει μεγαλύτερη του βάρους, το ελικόπτερο κινείται προς τα πάνω.

Ποια δύναμη ανυψώνει τα πουλιά; Όταν τα πουλιά πετούν τα φτερά τους παίρνουν τέτοιο σχήμα, ώστε να σπρώχνουν τον αέρα προς τα κάτω (δράση), οπότε ο αέρας τα σπρώχνει προς τα πάνω (αντίδραση).

Ποια δύναμη κινεί ή αλλάζει την πορεία των αεροπλάνων; Με ελαφρά κλίση τμήματος των φτερών του αεροπλάνου, ο αέρας που συναντά στρέφεται προς τα πάνω ή προς τα κάτω. Έτσι, ο

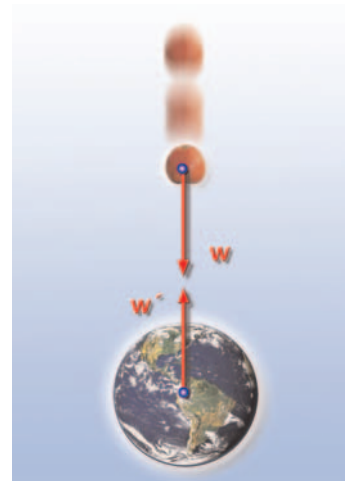
αέρας ασκεί δύναμη στο αεροπλάνο και το αναγκάζει να αλλάξει πορεία. Στα ελικοφόρα αεροπλάνα οι έλικες σπρώχνουν τον αέρα προς τα πίσω, οπότε ο αέρας τις σπρώχνει προς τα εμπρός. Στα αεριωθούμενα αεροπλάνα ο στροβιλοκινητήρας (τουρμπίνα) ρουφά αέρα από εμπρός και τον σπρώχνει προς τα πίσω. Αυτός με τη σειρά του σπρώχνει το αεροσκάφος μπροστά (εικόνα 3.45).

Ποια δύναμη κινεί τα πλοία στη θάλασσα; Τα πλοία διαθέτουν την προπέλα, η οποία καθώς κινείται, σπρώχνει το νερό προς τα πίσω (δράση), οπότε το νερό τη σπρώχνει προς τα εμπρός (αντίδραση).



Εικόνα 3.45.

Η κίνηση του αεροπλάνου μπορεί να ερμηνευτεί με τη βοήθεια της δράσης-αντίδρασης.



Εικόνα 3.44.


Το μήλο κινείται επειδή έχει μικρή αδράνεια. Η γη παραμένει ακίνητη επειδή έχει μεγάλη αδράνεια.

- Μπορείς να σκεφτείς με ποιο τρόπο θα μπορούσε να κινηθεί ένα αεροπλάνο στη σελήνη, όπου δεν υπάρχει ατμόσφαιρα; Ποιο σώμα θα ασκεί τη δράση και ποιο την αντίδραση που κινεί το αεροπλάνο;
- Πώς κινούνται οι πύραυλοι έξω από την ατμόσφαιρα;

Φυσική και Βιολογία

Πώς πετούν τα αποδημητικά πουλιά

Γιατί τα αποδημητικά πουλιά, όπως, π.χ. οι πελαργοί, πετούν σε σχηματισμό V; Η απάντηση μπορεί να δοθεί με απλή φυσική! Τα φτερά των πουλιών ωθούν τον αέρα προς τα κάτω. Σύμφωνα με τον τρίτο νόμο του Νεύτωνα και ο αέρας σπρώχνει τα πουλιά προς τα πάνω. Αλλά δεν είναι μόνο αυτό. Ο αέρας που ωθείται, συναντά τον αέρα που βρίσκεται από κάτω και στροβιλίζεται προς τα πάνω. Το ανερχόμενο αυτό ρεύμα είναι ισχυρότερο προς την πλευρά του πουλιού. Ένα πουλί που ακολουθεί, παίρνει τέτοια θέση ώστε να κερδίσει επιπλέον ανύψωση από το ανοδικό ρεύμα που δημιουργήθηκε από το προηγούμενο και ούτω καθεξής. Το αποτέλεσμα είναι ένα σμήνος από πουλιά να πετάει σε σχηματισμό V.



Ερωτήσεις

ΕΡΩΤΗΣΕΙΣ

► Χρησιμοποίησε και εφάρμοσε τις έννοιες που έμαθες:

Η έννοια της δύναμης – Δύο σημαντικές δυνάμεις στον κόσμο

1. Συμπλήρωσε τις λέξεις που λείπουν από το παρακάτω κείμενο έτσι ώστε οι προτάσεις που προκύπτουν να είναι επιστημονικά ορθές:
 - i. Οι δυνάμεις προκαλούν α) μεταβολή στην των σωμάτων β) τηντους.
 - ii. Όλες οι δυνάμεις που εμφανίζονται στη φύση έχουν ένα κοινό χαρακτηριστικό: εμφανίζονται πάντα ως μεταξύ δυο σωμάτων: λέμε ότι τα σώματα Η δύναμη είναι μέγεθος και παριστάνεται ως
 - iii. Για να μελετήσουμε τις δυνάμεις, τις κατατάσσουμε σε δυο κατηγορίες. Δυνάμεις που ασκούνται κατά την δύο σωμάτων και δυνάμεις που ασκούνται από

- iv. Η επιμήκυνση του ελατηρίου είναι με τη δύναμη που ασκείται σ' αυτό. Την παραπάνω ιδιότητα των ελατηρίων την εκμεταλλευόμαστε στην κατασκευή οργάνων μέτρησης: των Η μονάδα δύναμης στο Διεθνές Σύστημα Μονάδων (S.I.) ονομάζεται
- v. Η είναι η δύναμη που ασκείται από ένα σώμα σε ένα άλλο όταν βρίσκονται σε και το ένα κινείται ή τείνει να κινηθεί σε σχέση με το άλλο. Η διεύθυνση της τριβής είναι προς τις επιφάνειες που εφάπτονται και έχει φορά τέτοια ώστε να στην ολίσθηση της μιας επιφάνειας πάνω στην άλλη.
- vi. Η βαρυτική δύναμη που ασκεί η γη σ' ένα σώμα ονομάζεται (γήινο) του σώματος. Οι βαρυτικές δυνάμεις είναι πάντοτε

Σύνθεση και ανάλυση δύναμης – Ισορροπία υλικού σημείου

2. Να χαρακτηρίσεις με Σ τις προτάσεις των οποίων το περιεχόμενο είναι επιστημονικά ορθό και με Λ αυτές που το περιεχόμενό τους είναι επιστημονικά λανθασμένο.
- i. Η κασετίνα της εικόνας 3.27 ισορροπεί ενώ σ' αυτή ασκούνται τρεις δυνάμεις $F_1=5\text{ N}$, $F_2=3\text{ N}$ και $F_{ολ}=5\text{ N}$.
- ii. Ένα υλικό σημείο ισορροπεί με την επίδραση τριών δυνάμεων όταν: (α) Η συνισταμένη των δυο δυνάμεων είναι αντίθετη της τρίτης. (β) Η συνισταμένη των δυο δυνάμεων είναι ίση με την τρίτη. (γ) Η συνισταμένη των δυο δυνάμεων έχει μέτρο διπλάσιο της τρίτης. (δ) Η συνισταμένη όλων των δυνάμεων είναι μηδέν.
3. Στις παρακάτω ερωτήσεις να κυκλώσεις το γράμμα που αντιστοιχεί στη σωστή απάντηση:
Στην εικόνα 3.27 η συνισταμένη των δυνάμεων 4 N και 3 N: (α) είναι ίση με το βάρος w της κασετίνας; (β) Είναι αντίθετη με το βάρος w της κασετίνας; (γ) Έχει μέτρο διπλάσιο του βάρους w της κασετίνας; (δ) Τίποτε από τα παραπάνω.
4. Συμπλήρωσε τις λέξεις που λείπουν από το παρακάτω κείμενο έτσι ώστε οι προτάσεις που προκύπτουν να είναι επιστημονικά ορθές.
Η τάση των σωμάτων να αντιστέκονται σε οποιαδήποτε μεταβολή της κινητικής τους κατάστασης λέγεται [Ένα σώμα συνεχίζει να παραμένει ή να κινείται ευθύγραμμα και εφόσον η συνολική δύναμη που ασκείται επάνω του είναι μηδενική]. Η μάζα είναι το μέτρο της ενός σώματος.

Δύναμη και μεταβολή της ταχύτητας. Δύναμη και αλληλεπίδραση

5. Στις παρακάτω ερωτήσεις να κυκλώσεις το γράμμα ή τα γράμματα που αντιστοιχούν στις σωστές απαντήσεις:
(α) Η δράση και η αντίδραση έχουν ίσο μέτρο και αντίθετη φορά. (β) Η δράση και η αντίδραση ασκούνται στο ίδιο σώμα. (γ) Σε κάθε δράση αντιστοιχεί πάντα μια αντίδραση. (δ) Σε δυο σώματα στα οποία ασκούνται η δράση και η αντίδραση, αντίστοιχα, η ταχύτητά τους μεταβάλλεται με τον ίδιο τρόπο.

▶ Εφάρμοσε τις γνώσεις σου και γράψε τεκμηριωμένες απαντήσεις στις ερωτήσεις που ακολουθούν: Η έννοια της δύναμης – Δύο σημαντικές δυνάμεις στον κόσμο

1. Ποια είναι η κοινή αιτία που προκαλεί την πτώση ενός αντικειμένου προς τη γη και την κίνηση της σελήνης γύρω από τη γη;
2. Ένας συμμαθητής σου εκφράζει την άποψη: «Ένα σώμα έχει βάρος μόνο όταν βρίσκεται πάνω στην επιφάνεια της γης, ενώ δεν έχει όταν βρίσκεται στην επιφάνεια της σελήνης». Συμφωνείς με την άποψή του; Να εξηγήσεις.
3. Να αναφέρεις τρία παραδείγματα εμφάνισης της δύναμης της τριβής σε κινήσεις που παρατηρούνται στην καθημερινή ζωή.
4. Μια γόμα βρίσκεται ακίνητη πάνω στο θρανίο σου. Να σχεδιάσεις τις δυνάμεις που ασκούνται στη γόμα και να αναφέρεις από ποιο σώμα ασκείται η κάθε μια. Να τις κατατάξεις σε δυνάμεις από επαφή και από απόσταση. Να κάνεις το ίδιο στην περίπτωση που κινείς τη γόμα προς μια κατεύθυνση πάνω στη σελίδα του τετραδίου σου προκειμένου να σβήσεις μια πρόταση.

5. Δυο δυνάμεις με διαφορετικά μέτρα ασκούνται σ' ένα κιβώτιο. Είναι δυνατόν να προκύψει συνισταμένη δύναμη της οποίας το μέτρο να είναι ίσο με το μηδέν; Να δικαιολογήσεις την άποψή σου με ένα σχήμα.
6. Δυο παιδιά σπρώχνουν ένα μπαούλο. Το ένα ασκεί δύναμη 400 N και το άλλο δύναμη 300 N. Η συνισταμένη δύναμη που προκύπτει είναι ίση με 500 N. Εξήγησε πώς μπορεί να συμβεί αυτό.
7. Στην προηγούμενη ερώτηση, ποια είναι η μέγιστη τιμή της συνισταμένης δύναμης που μπορεί να εξασκηθεί από τα παιδιά στο μπαούλο; Ποια είναι η ελάχιστη τιμή της συνισταμένης δύναμης;

Σύνθεση και ανάλυση δύναμης – Ισορροπία υλικού σημείου

8. Να αναφέρεις τέσσερις βασικές διαφορές ανάμεσα στη μάζα και το βάρος.
9. Στις πρώτες δεκαετίες του 21ου αιώνα προβλέπεται ότι θα δημιουργηθούν οι πρώτες διαστημικές αποικίες. Οι τιμές των αγαθών πρέπει να συνδέονται με τη μάζα ή με το βάρος τους; Να αιτιολογήσεις την απάντησή σου.
10. Εξήγησε τα παρακάτω φαινόμενα εφαρμόζοντας τον πρώτο νόμο του Νεύτωνα:
 - α) Όταν ένα αεροπλάνο απογειώνεται, τα σώματα των επιβατών «πέφτουν προς τα πίσω».
 - β) Όταν ο οδηγός ενός λεωφορείου φρενάρει απότομα, ένας όρθιος επιβάτης «πέφτει μπροστά».
 - γ) Τινάζοντας τα βρεγμένα χέρια μας απομακρύνουμε τις σταγόνες από αυτά.
11. Τι εννοούμε λέγοντας ότι η ισορροπία είναι ισοδύναμη με την κίνηση με σταθερή ταχύτητα;

Δύναμη και μεταβολή της ταχύτητας. Δύναμη και αλληλεπίδραση

12. Με βάση τον τρίτο νόμο του Νεύτωνα να ερμηνεύσεις την κίνηση: α) ενός πλοίου β) ενός ελικοπτέρου γ) ενός αεριωθούμενου αεροπλάνου.
13. Σύμφωνα με το μύθο, ένα άλογο γνώριζε τους νόμους του Νεύτωνα. Όταν του είπαν να σύρει ένα κάρο, αρνήθηκε απαντώντας: «εάν ασκήσω δύναμη στο κάρο προς τα εμπρός, τότε σύμφωνα με τον τρίτο νόμο του Νεύτωνα και το κάρο θα ασκήσει δύναμη ίσου μέτρου προς τα πίσω. Συνεπώς, η συνολική δύναμη θα είναι ίση με το μηδέν και σύμφωνα με τον πρώτο νόμο του Νεύτωνα το κάρο θα παραμείνει ακίνητο». Τι θα απαντούσες σ' αυτό το μάλλον περίεργο άλογο;
14. Πώς εξηγείς το γεγονός ότι οι αθλητές των αλμάτων πατούν γερά στο έδαφος πριν από την πραγματοποίησή τους;
15. Ένα συμμαθητής σου στέκεται στο πάτωμα. Ποιες δυνάμεις του ασκούνται; Έχουν αυτές οι δυνάμεις ίσα μέτρα και αντίθετες κατευθύνσεις; Αποτελούν ζεύγος δράση-αντίδραση; Να αιτιολογήσεις την απάντησή σου.
16. Ένα μήλο ισορροπεί πάνω σε ένα οριζόντιο τραπέζι. Ποιες δυνάμεις ασκούνται στο μήλο; Ποια είναι τα ζεύγη των δυνάμεων δράση-αντίδραση;
17. Ένα μεγάλο φορτηγό και ένα μικρό ΙΧ αυτοκίνητο συγκρούονται μετωπικά. α) Να συγκρίνεις τις δυνάμεις που ασκούνται στα δυο οχήματα κατά τη διάρκεια της σύγκρουσης. (β) Σε ποιο όχημα παρατηρείται μεγαλύτερη μεταβολή της ταχύτητας; Να αιτιολογήσεις τις απαντήσεις σου.
18. Ένας μαθητής συνδέει δύο δυναμόμετρα και κάνει το πείραμα που φαίνεται στη διπλανή εικόνα. Από τις ενδείξεις των δυναμόμετρων και από τις κατευθύνσεις των δυνάμεων συμπεραίνει ότι ισχύει ο τρίτος νόμος του Νεύτωνα. Είναι σωστός ο συλλογισμός του; Ναι ή όχι και γιατί;



Ασκήσεις

ασκήσεις

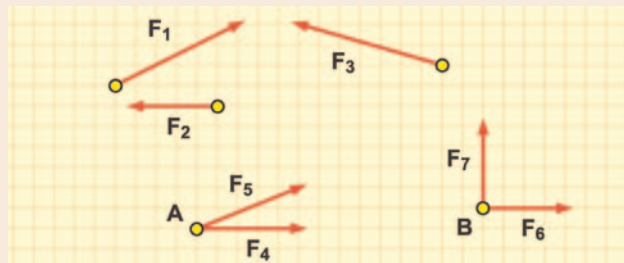
Η έννοια της δύναμης – Δύο σημαντικές δυνάμεις στον κόσμο

1. Ένα ελατήριο επιμηκύνεται 3 cm όταν ασκείται πάνω του μια δύναμη 12 N.
 - (α) Πόσο θα επιμηκυνθεί αν του ασκηθεί δύναμη 20 N;
 - (β) Πόση δύναμη πρέπει να του ασκηθεί για να αυξηθεί το μήκος του κατά 10 cm;

Σύνθεση και ανάλυση δύναμης – Ισορροπία υλικού σημείου

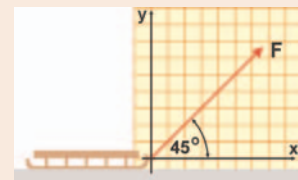
2. Στην εικόνα 3.22 τα δυο παιδιά ασκούν δυνάμεις $F_1=60\text{ N}$ και $F_2=115\text{ N}$ με φορά προς τα δεξιά και τα άλλα δυο δυνάμεις $F_3=85\text{ N}$ και $F_4=70\text{ N}$ προς την αντίθετη κατεύθυνση. Πόση είναι η συνισταμένη των δυνάμεων; Προς ποια κατεύθυνση θα κινηθεί ο κρίκος;
3. Σ' έναν κρίκο συνδέονται δυο νήματα. Μέσω των νημάτων ασκούνται στον κρίκο δυο δυνάμεις με μέτρα $F_1=4\text{ N}$ και $F_2=3\text{ N}$. Πόση είναι η συνολική δύναμη που ασκείται στον κρίκο, όταν οι δυο δυνάμεις έχουν: (α) ίδια κατεύθυνση, (β) αντίθετη κατεύθυνση, (γ) σχηματίζουν γωνία 90° ;
4. Δυο δυνάμεις F_1 και F_2 έχουν το ίδιο μέτρο 10 N . Να βρεθεί γραφικά η συνισταμένη τους, αν οι δυο δυνάμεις έχουν κοινό σημείο εφαρμογής και σχηματίζουν μεταξύ τους γωνία: (α) 0° (β) 45° (γ) 60° (δ) 90° (ε) 180° .

5. Στο διπλανό σχήμα παριστάνονται επτά δυνάμεις. Να σχεδιάσεις τις δυνάμεις που είναι αντίθετες στις F_1 , F_2 , F_3 . Οι δυνάμεις F_4 και F_5 έχουν σημείο εφαρμογής το Α και οι δυνάμεις F_6 και F_7 έχουν σημείο εφαρμογής το Β. Να βρεις γραφικά τη συνισταμένη τους και να υπολογίσεις το μέτρο της.



6. Σ' ένα αντικείμενο ασκούνται δυο δυνάμεις. Μια οριζόντια με μέτρο 6 N και μια κατακόρυφη με μέτρο 8 N . Να βρεις το μέτρο και τη διεύθυνση της συνισταμένης των δυο δυνάμεων.

7. Ένα μικρό έλκηθρο τραβιέται με ένα σκοινί που σχηματίζει γωνία 45° με το οριζόντιο έδαφος. Μέσω του σκοινιού ασκείται στο έλκηθρο μια δύναμη $F=50\text{ N}$. Να αναλύσεις την F σ' ένα σύστημα οριζόντιου και κατακόρυφου άξονα. Να προσδιορίσεις γραφικά τα μέτρα των δυο συνιστωσών δυνάμεων.



8. Ένα αυτοκίνητο μάζας 1000 kg κινείται με σταθερή ταχύτητα 50 km/h . Ποιο είναι το μέτρο της συνισταμένης δύναμης που ασκείται σ' αυτό;
9. Ένα βιβλίο Φυσικής είναι ακίνητο πάνω στο τραπέζι. Αν το σπρώξεις με το χέρι σου, γλιστράει πάνω στο τραπέζι και σταματάει.
 - α) Πώς εξηγείς ότι το βιβλίο παραμένει ακίνητο πριν ασκηθεί σε αυτό η δύναμη από το χέρι σου;
 - β) Γιατί το βιβλίο κινείται όταν το σπρώχνεις με το χέρι σου;
 - γ) Πώς εξηγείς ότι το βιβλίο τελικά θα σταματήσει, όταν πάψεις να το σπρώχνεις;
 - δ) Κάτω από ποιες συνθήκες το βιβλίο θα κινηθεί με σταθερή ταχύτητα;
10. Ένα κουτί μάζας 2 kg βρίσκεται σε οριζόντιο δάπεδο χωρίς τριβές και του ασκείται μια σταθερή οριζόντια δύναμη F με μέτρο 10 N . Ποια από τις παρακάτω προτάσεις είναι σωστή: Το κουτί θα κινηθεί με (α) σταθερή ταχύτητα $5\frac{\text{m}}{\text{s}}$, (β) σταθερή ταχύτητα $20\frac{\text{m}}{\text{s}}$, (γ) μεταβαλλόμενη ταχύτητα.

11. Στην εικόνα 3.22 τα δυο παιδιά προς τα δεξιά ασκούν δυνάμεις $F_1=125\text{ N}$ και $F_2=50\text{ N}$, ενώ τα δυο παιδιά που τραβούν τα σχοινιά προς τα αριστερά, ασκούν δυνάμεις $F_3=100\text{ N}$ και F_4 . Υπολόγισε το μέτρο της F_4 , αν ο κρίκος παραμένει ακίνητος.

12. Ο κρίκος που παριστάνεται στο σχήμα είναι δεμένος με δυο νήματα και ισορροπεί. Αν η δύναμη του βάρους που ασκείται στον κρίκο έχει μέτρο 6 N και η δύναμη F_1 που ασκείται από το οριζόντιο νήμα έχει μέτρο 8 N , να προσδιοριστεί το μέτρο της δύναμης F_2 που ασκείται από το άλλο νήμα.



13. Με τη βοήθεια ενός σχοινιού ασκείται μια σταθερή οριζόντια δύναμη σε ένα κιβώτιο που κινείται ευθύγραμμα και ομαλά πάνω σε τραχύ οριζόντιο δάπεδο. Αν η δύναμη του βάρους που ασκείται στο κιβώτιο έχει μέτρο 200 N και η δύναμη της τριβής 80 N : (α) Να σχεδιάσεις όλες τις δυνάμεις που ασκούνται

νται στο κιβώτιο. (β) Υπολόγισε το μέτρο της δύναμης που ασκεί το σκοινί και της συνισταμένης δύναμης που ασκεί το έδαφος.

Δύναμη και μεταβολή της ταχύτητας. Δύναμη και αλληλεπίδραση

14. Από ένα νήμα κρεμάμε σφαίρα βάρους 5 N, όπως δείχνει η διπλανή εικόνα. Να σχεδιάσεις και να υπολογίσεις τα μέτρα των δυνάμεων, που ασκούνται: (α) στη σφαίρα, (β) στο νήμα.
15. Ένα κιβώτιο βάρους 20 N ισορροπεί πάνω σ' ένα τραπέζι. (α) Να σχεδιάσεις τις δυνάμεις που ασκούνται στο κιβώτιο και να υπολογίσεις τα μέτρα τους. (β) Να υπολογίσεις το μέτρο της δύναμης που ασκεί το κιβώτιο στο τραπέζι και να τη σχεδιάσεις.
16. Ένα παιδί στο οποίο ασκείται βάρος μέτρου 40 N, στέκεται σε μια ζυγαριά μπάνιου. Η ζυγαριά αυτή είναι ουσιαστικά ένα δυναμόμετρο και είναι βαθμολογημένη σε N. (α) Ποιο είναι το μέτρο και ποια η κατεύθυνση της δύναμης που ασκεί η ζυγαριά στο παιδί; (β) Στη συνέχεια το παιδί παίρνει στα χέρια του ένα γατάκι βάρους 10 N. Ποια είναι τώρα η ένδειξη της ζυγαριάς; (γ) Αφού ο παιδί αφήσει το γατάκι, έρχεται ο πατέρας του και τον πιέζει στους ώμους προς τα κάτω με μια δύναμη μέτρου 60 N. Ποια είναι τώρα η ένδειξη της ζυγαριάς;



ΠΕΡΙΛΗΨΗ

- ❑ Οι δυνάμεις προκαλούν: (α) μεταβολή στην ταχύτητα των σωμάτων ή και (β) την παραμόρφωσή τους.
- ❑ Οι δυνάμεις εμφανίζονται πάντα ως ζεύγη κατά τις αλληλεπιδράσεις μεταξύ των σωμάτων.
- ❑ Οι δυνάμεις διακρίνονται σε δυο κατηγορίες: από επαφή και απόσταση.
- ❑ Οι δυνάμεις είναι διανυσματικά μεγέθη. Έχουν μέτρο και κατεύθυνση.
- ❑ Βάρος ονομάζεται η βαρυτική δύναμη που ασκείται σ' ένα σώμα από τη γη. Το βάρος αλλάζει από τόπο σε τόπο.
- ❑ Η τριβή είναι η δύναμη που αντιστέκεται στην κίνηση δυο σωμάτων, που βρίσκονται σε επαφή.
- ❑ Συνισταμένη είναι η δύναμη εκείνη που προκαλεί τα ίδια αποτελέσματα με το σύνολο των επιμέρους δυνάμεων που ασκούνται σε ένα σώμα.
- ❑ Αδράνεια είναι η τάση των σωμάτων να αντιστέκονται σε οποιαδήποτε μεταβολή της ταχύτητάς τους.
- ❑ Πρώτος νόμος του Νεύτωνα: «Ένα σώμα συνεχίζει να παραμένει ακίνητο ή να κινείται ευθύγραμμο και ομαλά, εφόσον η συνολική δύναμη που ασκείται σ' αυτό είναι μηδέν».
- ❑ Ένα υλικό σημείο ισορροπεί όταν η συνισταμένη των δυνάμεων που ασκούνται σε αυτό είναι μηδέν.
- ❑ Μάζα είναι το μέτρο της αδράνειας ενός σώματος. Η μάζα κάθε σώματος είναι ίδια σε οποιοδήποτε μέρος του Σύμπαντος κι αν βρεθεί. Η μάζα ενός σώματος είναι μέγεθος διαφορετικό από το βάρος του.
- ❑ Τρίτος νόμος του Νεύτωνα: «Οι δυνάμεις εμφανίζονται πάντοτε ανά ζεύγη. Όταν ένα σώμα ασκεί δύναμη σ' ένα άλλο, τότε και το δεύτερο σώμα ασκεί στο πρώτο δύναμη ίσου μέτρου και αντίθετης φοράς».

ΒΑΣΙΚΟΙ ΟΡΟΙ

Δύναμη	Συνισταμένη	Πρώτος νόμος του Νεύτωνα
Μεταβολή ταχύτητας	Συνιστώσες	Δράση-Αντίδραση
Παραμόρφωση	Ισορροπία	Τρίτος νόμος του Νεύτωνα
Αλληλεπίδραση	Αδράνεια	