

Η ΕΠΙΔΡΑΣΗ ΤΩΝ ΣΕΙΣΜΩΝ ΚΑΙ ΤΩΝ ΗΦΑΙΣΤΕΙΩΝ ΣΤΗ ΖΩΗ ΜΑΣ

1. Διάβασε το παρακάτω κείμενο και απάντησε στις ερωτήσεις που ακολουθούν:

«Αξίζει να σημειωθεί ότι στη νεότερη Ελλάδα ο σεισμός με τις περισσότερες απώλειες (3.550 νεκροί, 7.000 τραυματίες) εκδηλώθηκε το 1881 στη Χίο. Ο μεγάλος αριθμός των νεκρών και των τραυματιών αποδίδεται στον πανικό των κατοίκων και στη συγκέντρωσή τους στους στενούς δρόμους του νησιού. Μεγαλύτερο ήταν το πρόβλημα (θάνατοι και υλικές ζημιές) στις συνοικίες των Ελλήνων, Τούρκων και Εβραίων. Οι Φράγκοι του νησιού ζούσαν σε καλύτερα κατασκευασμένα σπίτια, με μεγάλους κήπους, και έτσι είχαν λιγότερες απώλειες...»

Ενημερωτικό έντυπο Ο.Α.Σ.Π.:

Σεισμός – Η γνώση είναι προστασία, Αθήνα 1999

- α. Επισήμανε και σημείωσε τρεις αιτίες που έπαιξαν ρόλο στον μεγάλο αριθμό θυμάτων και υλικών καταστροφών.

.....

.....

.....

- β. Ποιες θα έπρεπε να ήταν, αντίστοιχα, οι τρεις σωστές ενέργειες, ώστε να αποφευχθούν οι μεγάλες απώλειες σε ζωές και σε κτίρια;

.....

.....

2. Ο ηφαιστειακός ορυκτός πλούτος τόσο της Σαντορίνης όσο και της Μήλου είναι σημαντικός και αξιοποιείται οικονομικά. Αναζητήσε και σημείωσε χρήσεις για τη θηραϊκή γη, την ελαφρόπετρα, τον οψιδιανό, τον μπεντονίτη.

.....

.....

3. Η πολιτεία, προκειμένου να αντιμετωπιστούν οι οικονομικές συνέπειες ενός σεισμού, παρεμβαίνει με σειρά μέτρων για τους σεισμοπλήκτους (π.χ. τοποθετεί λυόμενες κατοικίες σε σεισμόπληκτες περιοχές). Πρότεινε εσύ τρία μέτρα που μπορεί να λάβει η πολιτεία για τους σεισμόπληκτους συμπολίτες μας.

.....

.....



Καλαμάτα 1986: σχολείο σε σκηνές μετά τον σεισμό



Καταστροφές στη Χίο από τον σεισμό του 1881

4. Η διπλανή φωτογραφία είναι από τον σεισμό της Καλαμάτας το 1986. Λόγω των ζημιών στο σχολικό τους κτίριο, τα παιδιά κάνουν μάθημα στις σκηνές. Παρατήρησε τα πρόσωπά τους και γράψε ένα σύνθημα που να αναδεικνύει την αποφασιστικότητα και τη θετική στάση για δράση που πρέπει να έχουμε μετά από έναν σεισμό.

«.....»

5. Η Ελλάδα είναι χώρα με υψηλή σεισμικότητα. Επισκέψου στο σπίτι ή στο σχολείο την ιστοσελίδα του Ο.Α.Σ.Π. (στη διεύθυνση: <http://www.oasp.gr>) και ενημερώσου για τις ενέργειες αντισεισμικής προστασίας που όλοι οφείλουμε να γνωρίζουμε. Διάβασε τι πρέπει να κάνεις, αν συμβεί σεισμός την ώρα που είσαι στη σχολική τάξη. Σημείωσε σε ένα φύλλο χαρτιού Α4 αυτές τις ενέργειες και ζωγράφισε το χαρτί με ένα σχετικό θέμα.

Όλα τα παιδιά της τάξης συγκεντρώστε τα φύλλα σε ένα ντοσιέ και οργανώστε μια σύντομη παρουσίασή του στην τάξη ή, αν υπάρχει χώρος στο σχολείο, αναρτήστε τις ζωγραφιές σας, ώστε να τις δουν και παιδιά άλλων τάξεων.

ΦΥΛΛΟ ΕΡΓΑΣΙΑΣ 11

ΟΙ ΦΥΣΙΟΓΡΑΦΙΚΕΣ ΠΕΡΙΟΧΕΣ ΤΗΣ ΕΥΡΩΠΗΣ



1. Παρατήρησε τον χάρτη 11.1 και στη συνέχεια χρωμάτισε ή γραμμοσκίασε στον λευκό χάρτη τις φυσιογραφικές περιοχές της Ευρώπης. Σημείωσε σε υπόμνημα σε ποια φυσιογραφική περιοχή αντιστοιχεί κάθε χρώμα ή τύπος γραμμοσκίασης που χρησιμοποίησες.
2. Με τη βοήθεια των κατάλληλων ευρωπαϊκών χαρτών (εικόνες 11.1, 16.1 και 25.1) συμπλήρωσε τον παρακάτω πίνακα:

| Χώρα ή χώρες | Οροσειρά, πεδιάδα ή οροπέδιο | Φυσιογραφική περιοχή |
|--------------|------------------------------|----------------------|
| Ισπανία | | |
| | Σκανδιναβικές Άλπεις | |
| | Καρπάθια | |
| Κροατία | | |
| | Άλπεις | |
| Εσθονία | | |
| Γαλλία | Κεντρικά Οροπέδια | |
| | Πίνδος | |

3. Στη Νορβηγία έχει κατασκευαστεί το τούνελ Λέρνταλ μήκους 24,5 χιλιομέτρων. Το τούνελ αυτό είναι το μεγαλύτερο στον κόσμο και συνδέει το Μπέργκεν, σημαντικό νορβηγικό λιμάνι στη Βόρεια Θάλασσα, με την πρωτεύουσα της Νορβηγίας Όσλο. Αφού παρατηρήσεις τον χάρτη φυσιογραφικών περιοχών (εικόνα 11.1), τον γεωμορφολογικό (εικόνα 16.1) και τον κλιματικό χάρτη (εικόνα 19.1) της Ευρώπης, απάντησε στις εξής ερωτήσεις:
 - α. Πού κυρίως κατασκευάζονται τούνελ, στην ξηρά, σε ορεινές ή σε πεδινές περιοχές;
 - β. Ποιο είναι το ανάγλυφο αυτής της περιοχής της Νορβηγίας;
 - γ. Μπορείς να αναφέρεις δύο επιχειρήματα (σχετικά με το ανάγλυφο και το κλίμα της περιοχής) τα οποία θα αιτιολογούν την ανάγκη κατασκευής αυτού του γιγαντιαίου και δαπανηρού έργου;

ΟΙ ΘΑΛΑΣΣΕΣ ΤΗΣ ΕΥΡΩΠΗΣ

1. Πολλές φορές στο παρελθόν η επιθυμία των ευρωπαϊκών λαών για κυριαρχία στη θάλασσα οδήγησε σε μεταξύ τους συγκρούσεις. Μία από τις σημαντικότερες ναυμαχίες της νεότερης εποχής είναι αυτή στο Τραφάλγκαρ, όπου ο βρετανικός στόλος νίκησε το 1805 τον γαλλοϊσπανικό, αποκτώντας τον απόλυτο έλεγχο των θαλασσών έως το ξεκίνημα του Β' Παγκόσμιου Πολέμου, το 1940. Αναζήτησε πληροφορίες για τη ναυμαχία αυτή και γράψε ένα μικρό κείμενο 100 λέξεων.



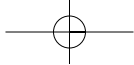
Η ναυμαχία του Τραφάλγκαρ σε πίνακα ζωγραφικής

2. Αναζήτησε σε ιστορικά βιβλία, εγκυκλοπαίδειες κτλ. πληροφορίες για δύο ακόμα ναυμαχίες που έγιναν στις ευρωπαϊκές θάλασσες από την αρχαιότητα μέχρι τη νεότερη εποχή και γράψε στη συνέχεια λίγα λόγια γι' αυτές.



Η ίδρυση του Μπουένος Άιρες το 1580 από τους Ισπανούς σε πίνακα ζωγραφικής

3. Με αφορμή τον πίνακα ζωγραφικής που απεικονίζει την ίδρυση του Μπουένος Άιρες, αναζήτησε πληροφορίες και γράψε ένα μικρό κείμενο 100 λέξεων για έναν Ευρωπαίο θαλασσοπόρο (όποιον εσύ θέλεις) και τα ταξίδια του.



ΦΥΛΛΟ ΕΡΓΑΣΙΑΣ 13

ΒΑΛΤΙΚΗ ΚΑΙ ΒΟΡΕΙΑ ΘΑΛΑΣΣΑ: ΔΥΟ ΘΑΛΑΣΣΕΣ ΤΟΥ ΕΥΡΩΠΑΪΚΟΥ ΒΟΡΡΑ

1. Η Δανία και η Σουηδία είναι δύο γειτονικές χώρες στα παράλια δύο θαλασσών (Βαλτικής και Βόρειας Θάλασσας). Στην ιστορική τους πορεία τα δύο κράτη βρέθηκαν πολλές φορές σε σύγκρουση. Γιατί κατά τη γνώμη σου συνέβαινε αυτό; Συμβουλέψου ιστορικά βιβλία και άλλες πηγές.

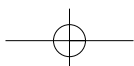
.....
.....
.....
.....
.....
.....
.....
.....
.....
.....
.....
.....
.....



Γέφυρα Όρεσουντ

2. Στη φωτογραφία εικονίζεται η γέφυρα Όρεσουντ ή «Γέφυρα των Λαών». Η κατασκευή της ολοκληρώθηκε στο ξεκίνημα του 21ου αιώνα και από το καλοκαίρι του 2000 συνδέει την Κοπεγχάγη της Δανίας με το Μάλμοε της Σουηδίας. Έχει μήκος 16 χιλιόμετρα, είναι μία από τις μεγαλύτερες σε μήκος καλωδιακές γέφυρες στον κόσμο και αποτελείται από τρία τμήματα: μία γέφυρα, ένα υποθαλάσσιο τούνελ και ένα τεχνητό νησί! Η κατασκευή της επιτρέπει την οδική ένωση της Σκανδιναβίας με την υπόλοιπη Ευρώπη, χωρίς την ανάγκη θαλάσσιου ταξιδιού στα νερά της Βόρειας ή της Βαλτικής Θάλασσας.

- α.** Ποιες πιστεύεις ότι είναι σήμερα οι σχέσεις των δύο λαών που ενώνει η γέφυρα; Η ονομασία που έχει δοθεί στη γέφυρα μαρτυρεί κάτι;
-
.....
.....
- β.** Αναζήτησε δύο παρόμοια τεχνικά έργα στη χώρα μας και σημείωσέ τα.
-
.....
.....
- γ.** Η κατασκευή την ίδια περίπου χρονική περίοδο της «Γέφυρας των Λαών» και του τούνελ Λέρνταλ (που γνώρισες στο φύλλο εργασίας του Μαθήματος 11), δύο γιγαντιαίων και δαπανηρών έργων στην περιοχή των δύο θαλασσών, σε ποια συμπεράσματα σε οδηγεί για την οικονομία των χωρών που βρίσκονται εκεί;
-
.....
.....
.....
.....
.....
.....
.....
.....
.....

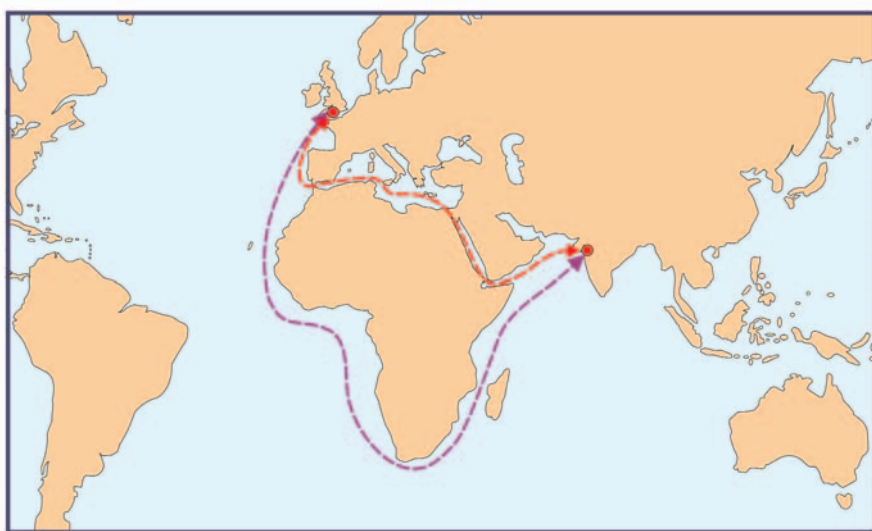


Η ΜΕΣΟΓΕΙΟΣ ΘΑΛΑΣΣΑ

1. Ο Ιούλιος Βερν (1828-1905) ήταν σπουδαίος Γάλλος λογοτέχνης. Ανάμεσα στα πολλά σημαντικά έργα που έγραψε ξεχωρίζει αυτό με τίτλο Ο γύρος του κόσμου σε 80 ημέρες, το οποίο δημοσιεύτηκε το 1873.

Η Διώρυγα του Σουέζ άρχισε να κατασκευάζεται το 1859 και παραδόθηκε στη ναυσιπλοΐα μόλις τέσσερα χρόνια πριν από τη δημοσίευση του έργου του Βερν, το 1869. Κι όμως, ο εμπνευσμένος δημιουργός είχε προλάβει να ενημερωθεί με ακρίβεια για την κατασκευή της και να ενσωματώσει λεπτομέρειες γι' αυτή στο μυθιστόρημά του. Έγραφε λοιπόν ο Βερν:

«Την Τετάρτη 9 Οκτωβρίου περίμεναν στο Σουέζ, για τις έντεκα το πρωί, το υπερωκεάνιο Μονγκόλια της Εταιρίας Χερσονήσου και Ανατολής. Το Μονγκόλια εξυπηρετούσε τη γραμμή Πρίντεζι-Βομβάη διαμέσου της Διώρυγας του Σουέζ... Περιμένοντας την άφιξη του πλοίου, δύο άντρες έκοβαν βόλτες στην αποβάθρα, ανάμεσα στο πλήθος των ιθαγενών και των ξένων που συρρέουν σ' αυτή την πόλη, άλλοτε χωριουδάκι, στην οποία το μέγα έργο του κυρίου Ντε Λεσέψ εξασφαλίζει ένα αξιόλογο μέλλον. Από τους δύο άντρες ο ένας ήταν ο πρόξενος του Ηνωμένου Βασιλείου, με έδρα το Σουέζ, ο οποίος (παρά τη δυσόιωνα πρόγνωση της βρετανικής κυβέρνησης και τις άσχημες προβλέψεις του μηχανικού Στίβενσον) καθημερινά έβλεπε αγγλικά πλοία να διασχίζουν τη διώρυγα, μειώνοντας στο μισό την παλιά διαδρομή από την Αγγλία στην Ινδία μέσω του Ακρωτηρίου της Καλής Ελπίδας...»



Η διαδρομή Λονδίνου-Βομβάης πριν και μετά την κατασκευή της Διώρυγας του Σουέζ

- α. Ποια ήταν η άποψη του Βερν για την επίδραση της διώρυγας στη ζωή των ντόπιων;

.....

.....

.....

- β. Ο σχεδιαστής και κατασκευαστής της Διώρυγας του Σουέζ, Φερδινάνδος Ντε Λεσέψ, ήταν Γάλλος, όπως και ο Βερν. Ποια ήταν, κατά τον Βερν, η άποψη της βρετανικής κυβέρνησης για τη χρησιμότητα αυτού του τεχνικού έργου;

.....

.....

.....

- γ. Παρατήρησε το μήκος της θαλάσσιας διαδρομής Λονδίνου-Βομβάης πριν και μετά την κατασκευή της Διώρυγας του Σουέζ. Πώς επέδρασε η κατασκευή της διώρυγας στον χρόνο ταξιδιού και στη σημασία της Μεσογείου ως θαλάσσιου δρόμου;

.....

.....

.....



Τα εγκαίνια της Διώρυγας του Σουέζ

2. Με αφορμή το κείμενο του Βερν που διάβασες, αναζήτησε παρόμοια αποσπάσματα με ταξιδιωτικές πληροφορίες σε έργα που περιέχονται στο σχολικό σου βιβλίο του μαθήματος της Νεοελληνικής Λογοτεχνίας. Γράψε τα αποτελέσματα της έρευνάς σου.

.....

.....

.....

ΦΥΛΛΟ ΕΡΓΑΣΙΑΣ 15

ΟΙ ΑΝΘΡΩΠΟΙ ΣΤΗ ΜΕΣΟΓΕΙΟ

1. Διάβασε τους παρακάτω στίχους του τραγουδιού (απόδοση στα ελληνικά: Δ. Χριστοδούλου) του Ζορζ Μουστακί «Μεσόγειος» και απάντησε στις ερωτήσεις που ακολουθούν:



Κύπρος: η Πέτρα του Ρωμιού

Μεσόγειος
Μεσόγειο τη λεν
και παίζουνε γυμνά
παιδιά με μαύρα μάτια
αγάλματα πικρά.

Γέννησε τους θεούς
τον ίδιο το Χριστό
το καλοκαίρι εκεί
δεν τρέμει τον καιρό.
Μεσ τη Μεσόγειο...

Το αίμα τους αιώνες
σκάλισε εκεί
τα βράχια και τους κάβους
και τη βαθιά σιωπή.

Νησιά σαν περιστέρια
αιώνιες φυλακές
το καλοκαίρι εκεί
δεν τρέμει τις βροχές.

- α.** Γιατί, σύμφωνα με τον ποιητή, η Μεσόγειος «γέννησε τους θεούς»;
- β.** Γιατί στη Μεσόγειο το καλοκαίρι «δεν τρέμει τις βροχές»;
- γ.** Μπορείς να βρεις στίχους που δείχνουν ότι η Μεσόγειος στο πέρασμα των χρόνων ήταν χώρος πολεμικών συγκρούσεων;
- δ.** Γιατί άραγε τα «παιδιά με μαύρα μάτια παίζουνε γυμνά»;
2. Διάβασε το κείμενο που ακολουθεί (απόσπασμα διαφημιστικού φυλλαδίου γραφείου τουρισμού) και αφορά μια περιοχή των μεσογειακών ακτών της Αφρικής:
- «Στον Κόλπο της Σύρτης βρίσκεται η Βεγγάζη και κοντά σ' αυτήν η Τόκρα, η αρχαία Ταυχείρα, και η Τολμέιτα, η αρχαία Πτολεμαΐδα. Η Τολμέιτα ήταν άλλοτε πρωτεύουσα της λιβυκής Πεντάπολης, και ακόμα και σήμερα οι διαστάσεις της πόλης προκαλούν θαυμασμό, ενώ εδώ συναντώνται παντός είδους κτίσματα από την κλασική αρχαιότητα ως τη βυζαντινή περίοδο...»
- α.** Αναζήτησε στον πολιτικό χάρτη της Μεσογείου τη Βεγγάζη. Σε ποιο σημερινό κράτος βρίσκεται;
- β.** α σημερινά ονόματα Τόκρα και Τολμέιτα θυμίζουν τα αρχαία ονόματα Ταυχείρα και Πτολεμαΐδα;
- γ.** Ποιος αρχαίος λαός μπορεί να ίδρυσε αυτές τις πόλεις; Οι Αιγύπτιοι, οι Φοίνικες, οι Έλληνες ή οι Ρωμαίοι;
- δ.** Ο Φερνάντ Μπροντέλ (1902-1985) ήταν Γάλλος ιστορικός. Στο βιβλίο Η Μεσόγειος – Ο χώρος και η ιστορία (εκδ. Αλεξάνδρεια, 1990) αναφέρει:
- «Τι είναι η Μεσόγειος; Είναι χίλια πράγματα μαζί. Δεν είναι μόνο ένα τοπίο, αλλά αμέτρητα τοπία. Δεν είναι μία θάλασσα, αλλά διαδοχή θαλασσών. Δεν είναι ένας πολιτισμός, αλλά πολιτισμοί που συσσωρεύονται ο ένας πάνω στον άλλον...»
- Αναζήτησε στο κείμενο για τις αρχαίες πόλεις Ταυχείρα και Πτολεμαΐδα μια φράση που να επιβεβαιώνει αυτή την άποψη του σπουδαίου Γάλλου ιστορικού και σημείωσε την παρακάτω.